



**Федеральное агентство морского и речного транспорта
Федеральное государственное бюджетное образовательное учреждение
высшего образования
«Государственный университет морского и речного флота
имени адмирала С.О. Макарова»
Велико-Устюгский филиал ФГБОУ ВО «ГУМРФ имени адмирала С.О. Макарова»**

РАБОЧАЯ ПРОГРАММА УЧЕБНОЙ ДИСЦИПЛИНЫ

ЕН.01 «МАТЕМАТИКА»

**ПРОГРАММЫ ПОДГОТОВКИ СПЕЦИАЛИСТОВ СРЕДНЕГО ЗВЕНА
по специальности
26.02.03 «Судовождение»**

квалификация

Старший техник-судоводитель с правом эксплуатации судовых энергетических установок

г. Великий Устюг

2023 г.

СОГЛАСОВАНА

Заместитель директора по учебно-воспитательной работе
Велико-Устюгского филиала
ФГБОУ ВО «ГУМРФ имени адмирала С.О. Макарова»


И.С.Овдов
31 08 20 23

УТВЕРЖДЕНА

Директор Велико-Устюгского филиала ФГБОУ ВО «ГУМРФ имени адмирала С.О. Макарова»


В.В.Казakov
31 08 20 23

ОДОБРЕНА

на заседании предметно-цикловой комиссии общеобразовательных, общетехнических и социально-экономических дисциплин

Протокол от 31.08.2023 № 1

Председатель  А.В.Пестовникова

РАЗРАБОТЧИК:

Кучумова Наталья Владимировна, преподаватель Велико-Устюгского филиала ФГБОУ ВО «ГУМРФ имени адмирала С.О. Макарова».

Рабочая программа ЕН.01 Математика разработана в соответствии с Федеральным государственным образовательным стандартом среднего профессионального образования, утвержденным приказом Министерства просвещения Российской Федерации от 2 декабря 2020 г. N 691 (зарегистрирован Министерством юстиции Российской Федерации 03.02.2021, регистрационный №62347) по специальности 26.02.03 «Судовождение», профессиональным стандартом 17.015 «Судоводитель-механик», утвержденным приказом Министерства труда и социальной защиты Российской Федерации от 08.09.2015 №612н (зарегистрирован Министерством юстиции Российской Федерации 09.10.2015 регистрационный №39273), примерной основной образовательной программой № П-41 государственного реестра ПООП, со стандартами Ворлдскилле Россия, с учётом Стратегии развития воспитания в Российской Федерации на период до 2025 года, рабочей программы воспитания.

СОДЕРЖАНИЕ

1. ОБЩАЯ ХАРАКТЕРИСТИКА РАБОЧЕЙ ПРОГРАММЫ УЧЕБНОЙ ДИСЦИПЛИНЫ.....	4
2. СТРУКТУРА И СОДЕРЖАНИЕ УЧЕБНОЙ ДИСЦИПЛИНЫ.....	7
3. УСЛОВИЯ РЕАЛИЗАЦИИ УЧЕБНОЙ ДИСЦИПЛИНЫ.....	12
4. КОНТРОЛЬ И ОЦЕНКА РЕЗУЛЬТАТОВ ОСВОЕНИЯ УЧЕБНОЙ ДИСЦИПЛИНЫ.....	13

1. ОБЩАЯ ХАРАКТЕРИСТИКА РАБОЧЕЙ ПРОГРАММЫ УЧЕБНОЙ ДИСЦИПЛИНЫ ЕН 01 «МАТЕМАТИКА»

1.1. Место дисциплины в структуре основной образовательной программы:

Учебная дисциплина ЕН.01 Математика является обязательной частью математического и общего естественнонаучного цикла основной образовательной программы в соответствии с ФГОС по специальности 26.02.03 Судовождение

Особое значение дисциплина имеет при формировании и развитии ОК 01 – ОК 04, ПК 1.1, ПК 1.3, ПК 3.1, ПК 4.1, ПК 4.2.

1.2. Цель и планируемые результаты освоения дисциплины:

В рамках программы учебной дисциплины обучающимися осваиваются умения и знания

Код ПК, ОК	Умения	Знания
<p style="text-align: center;">ОК 01</p> <p>Выбирать способы решения задач профессиональной деятельности применительно к различным контекстам.</p>	<ul style="list-style-type: none"> - распознавать задачу и/или проблему в профессиональном и/или социальном контексте; -анализировать задачу и/или проблему и выделять её составные части; -определять этапы решения задачи; выявлять и эффективно искать информацию, необходимую для решения задачи и/или проблемы; -составлять план действия; -определять необходимые ресурсы; -владеть актуальными методами работы в профессиональной и смежных сферах; -реализовывать составленный план; -оценивать результат и последствия своих действий (самостоятельно или с помощью наставника) 	<ul style="list-style-type: none"> - актуальный профессиональный и социальный контекст, в котором приходится работать и жить; -основные источники информации и ресурсы для решения задач и проблем в профессиональном и/или социальном контексте; -алгоритмы выполнения работ в профессиональной и смежных областях; -методы работы в профессиональной и смежных сферах; -структуру плана для решения задач; -порядок оценки результатов решения задач профессиональной деятельности.
<p style="text-align: center;">ОК 02</p> <p>Использовать современные средства поиска, анализа и интерпретации информации и информационные технологии для выполнения задач профессиональной деятельности</p>	<ul style="list-style-type: none"> -определять задачи для поиска информации; -определять необходимые источники информации; -планировать процесс поиска; -структурировать получаемую информацию; -выделять наиболее значимое в перечне информации; -оценивать практическую значимость результатов поиска; -оформлять результаты поиска; -применять средства информационных технологий 	<ul style="list-style-type: none"> -номенклатура информационных источников, применяемых в профессиональной деятельности; - приемы структурирования информации; -формат оформления результатов поиска информации; -современные средства и устройства информатизации; -порядок их применения и программное обеспечение в профессиональной деятельности.

	для решения профессиональных задач; -использовать современное программное обеспечение.	
ОК 03 Планировать и реализовывать собственное профессиональное и личностное развитие, предпринимательскую деятельность в профессиональной сфере, использовать знания по финансовой грамотности в различных жизненных ситуациях	-определять актуальность нормативно-правовой документации в профессиональной деятельности; -применять современную научную профессиональную терминологию; -определять и выстраивать траектории профессионального развития и самообразования; -выявлять достоинства и недостатки коммерческой идеи; -презентовать идеи открытия собственного дела в профессиональной деятельности; -оформлять бизнес-план; -рассчитывать размеры выплат по процентным ставкам кредитования; -определять инвестиционную привлекательность коммерческих идей в рамках профессиональной деятельности; -презентовать бизнес-идею; -определять источники финансирования.	-содержание актуальной нормативно-правовой документации; -современная научная и профессиональная терминология; -возможные траектории профессионального развития и самообразования; -основы предпринимательской деятельности; -основы финансовой грамотности; -правила разработки бизнес-планов; -порядок выстраивания презентации; -кредитные банковские продукты.
ОК 04 Эффективно взаимодействовать и работать в коллективе и команде;	-организовывать работу коллектива и команды; -взаимодействовать с коллегами, руководством, клиентами в ходе профессиональной деятельности.	-психологические основы деятельности коллектива, -психологические особенности личности; -основы проектной деятельности.
ПК 1.1. Планировать и осуществлять переход в точку назначения, определять местоположение судна;	Определять координаты пунктов прихода, разность широт и разность долгот, дальность видимости ориентиров; решать задачи на перевод и исправления курсов и пеленгов; вести графическое счисление пути судна на карте с учетом поправки лага и циркуляции, дрейфа судна от ветра, сноса судна течением, совместного действия ветра и течения, вести счисление пути судна; рассчитывать элементы прилива с помощью таблиц приливов, составлять график прилива и решать связанные с ним штурманские задачи;	определение направлений и расстояний на картах; выполнение предварительной прокладки пути судна на картах; графическое и аналитическое счисление пути судна и оценку его точности; методы и способы определения места судна визуальными способами с оценкой их точности;

	– рассчитывать среднюю квадратическую погрешность (далее - СКП) счислимого и обсервованного места;	
ПК 1.3. Эксплуатировать судовые энергетические установки;	Эксплуатировать главные энергетические установки и вспомогательные механизмы судна, а также их системы управления; осуществлять техническую эксплуатацию энергетического оборудования, вспомогательных механизмов и систем судна; эксплуатировать электрические преобразователи, генераторы и их системы управления; осуществлять эксплуатацию судовых электроприводов и систем управления ими;	устройство и принцип действия судовых дизелей; устройство элементов судовой энергетической установки, механизмов, систем; назначение, конструкцию судовых вспомогательных механизмов, систем и устройств; системы автоматического регулирования работы судовых энергетических установок;
ПК 3.1. Планировать и обеспечивать бесплатную погрузку, размещение, крепление судна и уход за ним в течение рейса и выгрузки;	Составлять грузовой план судна и делать расчет остойчивость судна;	основные документы для приема сдачи и перевозки грузов; коммерческие операции по перевозке грузов; основы формирования тарифов на операции с грузом; коммерческие операции по перевозке грузов; основы формирования тарифов на операции с грузом;
ПК 4.1. Оценивать эффективность и качество работы судна;	применять на практике методы контроля качества, оценки, статистики и надежности в эксплуатации судна и судовых технических средств	статистические методы для оценки показателей качества работы судна
ПК 4.2. Находить оптимальные варианты планирования рейса судна, технико-экономических характеристик эксплуатации судна.	пользоваться методами научного познания; применять логические законы и правила; накапливать научную информацию.	основные положения теории оценок; интегральные оценки качества;

--	--	--

Личностные результаты реализации программы воспитания, определенные отраслевыми требованиями к деловым качествам личности	
Проявляющий сознательное отношение к непрерывному образованию как условию успешной профессиональной и общественной деятельности	ЛР 14

2. СТРУКТУРА И СОДЕРЖАНИЕ УЧЕБНОЙ ДИСЦИПЛИНЫ

2.1. Объем учебной дисциплины и виды учебной работы

Вид учебной работы	Объем в часах
Объем образовательной программы учебной дисциплины	71
в т.ч. в форме практической подготовки	26
в т. ч.:	
теоретическое обучение	27
практические занятия	26
Самостоятельная работа	8
консультации	4
Промежуточная аттестация	6

2.2. Тематический план и содержание учебной дисциплины

Наименование разделов и тем	Содержание учебного материала и формы организации деятельности обучающихся	Объем в часах	Коды компетенций, формирование которых способствует элемент программы
<i>1</i>	<i>2</i>	<i>3</i>	<i>4</i>
Раздел 1.	Математический анализ		
Тема 1.1. Дифференциальное и интегральное исчисление	Содержание учебного материала	16	ОК 01 -ОК 04 ПК 1.1 ПК 1.3 ПК 3.1 ПК 4.1 ПК 4.2
	Функция одной независимой переменной. Пределы	2	
	Производная и её геометрический смысл. Применение производной. Дифференциал функции и его применение в приближенных вычислениях	2	
	Первообразная. Неопределённый интеграл. Способы вычисления неопределённого интеграла	2	
	Определённый интеграл, методы его вычисления Геометрический смысл определённого интеграла.	2	
	В том числе практических занятий	8	
	Практическое занятие 1. Вычисление пределов	2	
	Практическое занятие 2. Вычисление пределов	2	
	Практическое занятие 3. Применение производных при решении задач. Применение определенного интеграла к решению задач	2	

	Практическое занятие 4. Применение производных при решении задач. Применение определенного интеграла к решению задач	2	
Тема 1.2. Обыкновенные дифференциальные уравнения	Содержание учебного материала	12	ОК 01 -ОК 04 ПК 1.1 ПК 1.3 ПК 3.1 ПК 4.1 ПК 4.2
	Задачи, приводящие к дифференциальным уравнениям. Общее и частное решение	2	
	Дифференциальные уравнения с разделяющимися переменными	2	
	Линейные дифференциальные уравнения 1 порядка. Линейные однородные дифференциальные уравнения 2 порядка с постоянными коэффициентами	2	
	В том числе практических занятий	4	
	Практическое занятие 5. Решение дифференциальных уравнений с разделяющимися переменными.	2	
	Практическое занятие 6. Решение линейных дифференциальных уравнений 1 порядка. Решение линейных однородных дифференциальных уравнений 2 порядка с постоянными коэффициентами.	2	
	Практическое занятие 7. Решение линейных дифференциальных уравнений 1 порядка. Решение линейных однородных дифференциальных уравнений 2 порядка с постоянными коэффициентами.	2	
Тема 1.3. Ряды	Содержание учебного материала	8	ОК 01 -ОК 04 ПК 1.1 ПК 1.3 ПК 3.1 ПК 4.1 ПК 4.2
	Числовые ряды. Сходимость и расходимость числовых рядов. Признаки сходимости	2	
	Знакопеременные ряды. Абсолютная и условная сходимость Функциональные и степенные ряды	2	
	В том числе практических занятий	4	

	Практическое занятие 8. Исследование на сходимость рядов с положительными членами.	2	
	Практическое занятие 9. Исследование на сходимость знакопеременных рядов.	2	
Раздел 2.	Основные численные методы		
Тема 2.1. Основные численные методы	Содержание учебного материала	6	ОК 01 -ОК 04 ПК 1.1 ПК 1.3 ПК 3.1 ПК 4.1 ПК 4.2
	Численное интегрирование. Вычисление интегралов по формулам прямоугольников, трапеций, формуле Симпсона	2	
	Численное дифференцирование. Формулы приближенного дифференцирования, основанные на интерполяционных формулах Ньютона	2	
	В том числе практических занятий	2	
	Практическое занятие 10. Вычисление интегралов по формулам прямоугольников, трапеций, формуле Симпсона.	2	
Раздел 3.	Основы теории вероятностей и математической статистики		
Тема 3.1. Основы теории вероятностей и математической статистики	Содержание учебного материала	8	ОК 01 -ОК 04 ПК 1.1 ПК 1.3 ПК 3.1 ПК 4.1 ПК 4.2
	Элементы теории вероятностей. Случайные величины и их распределения. Числовые характеристики случайных величин.	2	
	Математическое ожидание, свойства. Дисперсия, среднее квадратичное отклонение	2	
	Метод наименьших квадратов. Среднее арифметическое значение, способы нахождения.		
	В том числе практических занятий	4	
	Практические занятия 11 . Элементы теории вероятностей.	2	

	Практические занятия 12 Случайные величины и их распределения. Числовые характеристики случайных величин.	2	
Раздел 4.	Сферическая тригонометрия		
Тема 4.1.	Содержание учебного материала:	3	ОК 01 -ОК 04 ПК 1.1 ПК 1.3 ПК 3.1 ПК 4.1 ПК 4.2
Сферическая тригонометрия	Основные понятия и формулы сферической тригонометрии Элементарные и косоугольные сферические треугольники	1	
	В том числе практических занятий	2	
	Практическое занятие 13. Решение сферических треугольников.	2	
	Самостоятельная работа	8	
	Консультации	4	
Промежуточная аттестация		18	
Всего:		71	

3. УСЛОВИЯ РЕАЛИЗАЦИИ ПРОГРАММЫ УЧЕБНОЙ ДИСЦИПЛИНЫ

3.1. Для реализации программы учебной дисциплины предусмотрено следующие специальные помещения:

Учебная аудитория «Математика».

оснащенная оборудованием: посадочные места по количеству обучающихся; рабочее место преподавателя; учебно-наглядные пособия, таблицы, чертежные инструменты, набор геометрических тел (для демонстрации); технические средства обучения: мультимедийная техника.

3.2. Информационное обеспечение реализации программы

3.2.1. Обязательные печатные издания

1. Лисичкин В.Т., Соловейчек И.Л. Математика в задачах с решениями, Изд. «Лань». 2014г. ЭБС ЛАНЬ.
2. Богомолов Н.В. Алгебра и начала анализа: учеб. пособие для СПО/ Н.В. Богомолов. – М.: Издательство Юрайт, 2017. – 200с. – Серия : Профессиональное образование <https://biblio-online.ru>
3. Дадаян А.А. Математика : учебник / А.А. Дадаян. - 3-е изд., испр. И доп. - М.: ИНФРА-М, 2017. ЭБС ЗНАНИУМ.

3.2.2. Электронные издания

1. Баврин, И. И. Математика : учебник и практикум для СПО / И. И. Баврин. — 2-е изд., перераб. и доп. — М. : Издательство Юрайт, 2017. — 616 с. — (Серия : Профессиональное образование). — ISBN 978-5-534-04101-9. <https://www.biblio-online.ru>
2. Дорофеева, А. В. Математика : учебник для СПО / А. В. Дорофеева. — 3-е изд., перераб. и доп. — М. : Издательство Юрайт, 2017. — 400 с. — (Серия : Профессиональное образование). — ISBN 978-5-534-03697-8. <https://www.biblio-online.ru>

3.2.3. Дополнительные источники

1. Математика: алгебра и начала мат. анализа, геометрия /Башмаков М.И./ Учебник для СПО. М., Академия, 2016 - 256с.
2. Лисичкин, В.Т. Математика в задачах с решениями. [Электронный ресурс] / В.Т. Лисичкин, И.Л. Соловейчик. — Электрон. дан. — СПб. : Лань, 2014. — 464 с. — Режим доступа: <http://e.lanbook.com/book/2785> — Загл. с экрана.
3. Математика: учебник. / А.А. Дадаян. – 2-е изд. – М. : ФОРУМ, 2010. – 544 с. – (Профессиональное образование). ISBN 978 – 5 – 91134 – 144 – 2
4. Сборник дидактических заданий по математике: учеб. Пособие для ссузов / Н. В. Богомолов, Л.Ю. Сергиенко. – 4-е изд., стереотип. – М : Дрофа, 2010. – 236 с. :ил. ISBN 9787-05-358-083297-4

4. КОНТРОЛЬ И ОЦЕНКА РЕЗУЛЬТАТОВ ОСВОЕНИЯ УЧЕБНОЙ ДИСЦИПЛИНЫ

<i>Результаты обучения</i>	<i>Критерии оценки</i>	<i>Методы оценки</i>
ОК 01 Выбирать способы решения задач профессиональной деятельности применительно к различным контекстам.	Задачи профессиональной деятельности в различных контекстах распознаются, анализируются, выделяются составные части, определяются этапы и успешно решаются при исполнении должностных обязанностей	Текущий контроль в форме экспертного наблюдения и оценки результатов достижения компетенции на практических занятиях. Итоговый контроль в форме экзамена.
ОК 02 Использовать современные средства поиска, анализа и интерпретации информации и информационные технологии для выполнения задач профессиональной деятельности	Задачи профессиональной деятельности успешно выполняются посредством поиска и нахождения необходимой информации, её структурирования и выделения наиболее значимой для применения	Текущий контроль в форме экспертного наблюдения и оценки результатов достижения компетенции на практических занятиях. Промежуточный контроль в форме экзамена.
ОК 03 Планировать и реализовывать собственное профессиональное и личностное развитие, предпринимательскую деятельность в профессиональной сфере, использовать знания по финансовой грамотности в различных жизненных ситуациях	Собственное профессиональное и личностное развитие планируется и реализуется с учётом актуальной нормативно-правовой документации в профессиональной деятельности по выстроенной траектории профессионального развития и самообразования	Текущий контроль в форме экспертного наблюдения и оценки результатов достижения компетенции на практических занятиях. Промежуточный контроль в форме экзамена
ОК 04 Эффективно взаимодействовать и работать в коллективе и команде;	Работа коллектива и команды организовывается, взаимодействие с коллегами, руководством и клиентами в ходе профессиональной деятельности осуществляется с учётом психологической особенности личности и психологических основ деятельности коллектива	Текущий контроль в форме экспертного наблюдения и оценки результатов достижения компетенции на практических занятиях. Итоговый контроль в форме экзамена

ПК 1.1. Планировать и осуществлять переход в точку назначения, определять местоположение судна;	Планируется и осуществляется переход в точку назначения, определяется местоположения судна.	Текущий контроль в форме экспертного наблюдения и оценки результатов достижения компетенции на практических занятиях. Итоговый контроль в форме экзамена
ПК 1.3. Эксплуатировать судовые энергетические установки;	Эксплуатируются судовые энергетические установки.	Текущий контроль в форме экспертного наблюдения и оценки результатов достижения компетенции на практических занятиях. Итоговый контроль в форме экзамена
ПК 3.1. Планировать и обеспечивать бесплатную погрузку, размещение, крепление судна и уход за ним в течение рейса и выгрузки;	Планируется и обеспечивается погрузка, размещение, крепление и уход за ним в течение рейса и выгрузки.	Текущий контроль в форме экспертного наблюдения и оценки результатов достижения компетенции на практических занятиях. Итоговый контроль в форме экзамена
ПК 4.1. Оценивать эффективность и качество работы судна;	Оценивается эффективность и качество работы судна.	Текущий контроль в форме экспертного наблюдения и оценки результатов достижения компетенции на практических занятиях. Итоговый контроль в форме экзамена
ПК 4.2. Находить оптимальные варианты планирования рейса судна, технико-экономических характеристик эксплуатации судна.	Находятся оптимальные варианты планирования рейса судна, технико-экономические характеристики эксплуатации судна.	Текущий контроль в форме экспертного наблюдения и оценки результатов достижения компетенции на практических занятиях. Итоговый контроль в форме экзамена



**Федеральное агентство морского и речного транспорта
Федеральное государственное бюджетное образовательное учреждение
высшего образования
«Государственный университет морского и речного флота
имени адмирала С.О. Макарова»
Велико- Устюгский филиал ФГБОУ ВО «ГУМРФ имени адмирала С.О. Макарова»**

**КОМПЛЕКТ КОНТРОЛЬНО-ОЦЕНОЧНЫХ СРЕДСТВ
ПО УЧЕБНОЙ ДИСЦИПЛИНЕ**

ЕН.01 «МАТЕМАТИКА»

**ПРОГРАММЫ ПОДГОТОВКИ СПЕЦИАЛИСТОВ СРЕДНЕГО ЗВЕНА
по специальности
26.02.03 «Судовождение»**

квалификация

Старший техник-судоводитель с правом эксплуатации судовых энергетических установок

**Великий Устюг
2023 г.**

СОГЛАСОВАНО

Заместитель директора по учебно-воспитательной работе Велико-Устюгского филиала ФГБОУ ВО «ГУМРФ имени адмирала С.О. Макарова»

 И.С.Овдов

31 08 2023

УТВЕРЖДАЮ

Директор Велико-Устюгского филиала ФГБОУ ВО «ГУМРФ имени адмирала С.О. Макарова»



В.В.Казakov

31 08 2023

ОДОБРЕНО

на заседании ПЦК общеобразовательных, общетехнических и социально-экономических дисциплин

Протокол от 31.08.2023 № 1

Председатель:  А.В.Пестовникова

СОГЛАСОВАНО

И.о.первого заместителя руководителя-капитана ФБУ «Администрация Двинско-Печорского бассейна внутренних водных путей»

 В.Л.Есенеев

31 08 2023

РАЗРАБОТЧИК:

Кучумова Наталья Владимировна, преподаватель Велико-Устюгского филиала ФГБОУ ВО «ГУМРФ имени адмирала С.О. Макарова».

Комплект контрольно-оценочных средств по учебной дисциплине ЕН.01 Математика разработан в соответствии с Федеральным государственным образовательным стандартом среднего профессионального образования, утвержденным приказом Министерства просвещения Российской Федерации от 2 декабря 2020 г. № 691 (зарегистрирован Министерством юстиции Российской Федерации 03.02.2021, регистрационный №62347) по специальности 26.02.03 «Судовождение», профессиональным стандартом 17.015 «Судоводитель-механик», утвержденным приказом Министерства труда и социальной защиты Российской Федерации от 8 сентября 2015 г. № 612н (зарегистрирован Министерством юстиции Российской Федерации 09.10.2015, регистрационный номер 39273), рабочей программой учебной дисциплины.

СОДЕРЖАНИЕ

1. ПАСПОРТ КОМПЛЕКТА КОНТРОЛЬНО-ОЦЕНОЧНЫХ СРЕДСТВ.....	18
2. КОДИФИКАТОР ОЦЕНОЧНЫХ СРЕДСТВ.....	21
3. СИСТЕМА ОЦЕНКИ ОБРАЗОВАТЕЛЬНЫХ ДОСТИЖЕНИЙ ОБУЧАЮЩИХСЯ ПО КАЖДОМУ ОЦЕНОЧНОМУ СРЕДСТВУ...22	
4. БАНК КОМПЕТЕНТНОСТНО-ОЦЕНОЧНЫХ МАТЕРИАЛОВ ДЛЯ ОЦЕНКИ УСВОЕНИЯ РАБОЧЕЙ ПРОГРАММЫ УЧЕБНОЙ ДИСЦИПЛИНЫ.....	25

**1. ПАСПОРТ КОМПЛЕКТА КОНТРОЛЬНО-ОЦЕНОЧНЫХ СРЕДСТВ
ПО УЧЕБНОЙ ДИСЦИПЛИНЕ
ЕН.01 «МАТЕМАТИКА»**

1.1. Область применения контрольно-оценочных средств

Контрольно-оценочные средства (КОС) являются частью нормативно-методического обеспечения системы оценивания качества освоения обучающимися программы подготовки специалистов среднего звена по специальности 26.02.03 «Судовождение» и обеспечивают повышение качества образовательного процесса.

КОС по учебной дисциплине представляет собой совокупность контролирующих материалов, предназначенных для измерения уровня достижения обучающимся установленных результатов обучения.

КОС по учебной дисциплине используется при проведении текущего контроля успеваемости и промежуточной аттестации обучающихся в виде экзамена.

1.2. Результаты освоения учебной дисциплины, подлежащие проверке

Код ПК, ОК	Умения	Знания
ОК 01 Выбирать способы решения задач профессиональной деятельности применительно к различным контекстам.	<ul style="list-style-type: none"> - распознавать задачу и/или проблему в профессиональном и/или социальном контексте; -анализировать задачу и/или проблему и выделять её составные части; -определять этапы решения задачи; выявлять и эффективно искать информацию, необходимую для решения задачи и/или проблемы; -составлять план действия; -определять необходимые ресурсы; -владеть актуальными методами работы в профессиональной и смежных сферах; -реализовывать составленный план; -оценивать результат и последствия своих действий (самостоятельно или с помощью наставника) 	<ul style="list-style-type: none"> - актуальный профессиональный и социальный контекст, в котором приходится работать и жить; -основные источники информации и ресурсы для решения задач и проблем в профессиональном и/или социальном контексте; -алгоритмы выполнения работ в профессиональной и смежных областях; -методы работы в профессиональной и смежных сферах; -структуру плана для решения задач; -порядок оценки результатов решения задач профессиональной деятельности.
ОК 02 Использовать современные средства поиска, анализа и интерпретации информации и информационные технологии для выполнения задач профессиональной	<ul style="list-style-type: none"> -определять задачи для поиска информации; -определять необходимые источники информации; -планировать процесс поиска; -структурировать получаемую информацию; -выделять наиболее значимое в перечне информации; -оценивать практическую значимость результатов поиска; -оформлять результаты поиска; 	<ul style="list-style-type: none"> -номенклатура информационных источников, применяемых в профессиональной деятельности; - приемы структурирования информации; -формат оформления результатов поиска информации; -современные средства и устройства информатизации; -порядок их применения и программное обеспечение в профессиональной деятельности.

деятельности	-применять средства информационных технологий для решения профессиональных задач; -использовать современное программное обеспечение.	
ОК 03 Планировать и реализовывать собственное профессиональное и личностное развитие, предпринимательскую деятельность в профессиональной сфере, использовать знания по финансовой грамотности в различных жизненных ситуациях	-определять актуальность нормативно-правовой документации в профессиональной деятельности; -применять современную научную профессиональную терминологию; -определять и выстраивать траектории профессионального развития и самообразования; -выявлять достоинства и недостатки коммерческой идеи; -презентовать идеи открытия собственного дела в профессиональной деятельности; -оформлять бизнес-план; -рассчитывать размеры выплат по процентным ставкам кредитования; -определять инвестиционную привлекательность коммерческих идей в рамках профессиональной деятельности; -презентовать бизнес-идею; -определять источники финансирования.	-содержание актуальной нормативно-правовой документации; -современная научная и профессиональная терминология; -возможные траектории профессионального развития и самообразования; -основы предпринимательской деятельности; -основы финансовой грамотности; -правила разработки бизнес-планов; -порядок выстраивания презентации; -кредитные банковские продукты.
ОК 04 Эффективно взаимодействовать и работать в коллективе и команде;	-организовывать работу коллектива и команды; -взаимодействовать с коллегами, руководством, клиентами в ходе профессиональной деятельности.	-психологические основы деятельности коллектива, -психологические особенности личности; -основы проектной деятельности.

ПК 1.1. Планировать и осуществлять переход в точку назначения, определять местоположение судна;	6.Определять координаты пунктов прихода, разность широт и разность долгот, дальность видимости ориентиров; решать задачи на перевод и исправления курсов и пеленгов; вести графическое счисление пути судна на карте с учетом поправки лага и циркуляции, дрейфа судна от ветра, сноса судна течением, совместного действия ветра и течения, вести счисление пути судна; рассчитывать элементы прилива с помощью таблиц приливов,	определение направлений и расстояний на картах; выполнение предварительной прокладки пути судна на картах; графическое и аналитическое счисление пути судна и оценку его точности; методы и способы определения места судна визуальными способами с оценкой их точности;
--	--	---

	составлять график прилива и решать связанные с ним штурманские задачи; рассчитывать среднюю квадратическую погрешность (далее - СКП) счислимого и обсервованного места;	
ПК 1.3. Эксплуатировать судовые энергетические установки;	7.Эксплуатировать главные энергетические установки и вспомогательные механизмы судна, а также их системы управления; осуществлять техническую эксплуатацию энергетического оборудования, вспомогательных механизмов и систем судна; эксплуатировать электрические преобразователи, генераторы и их системы управления; осуществлять эксплуатацию судовых электроприводов и систем управления ими;	устройство и принцип действия судовых дизелей; устройство элементов судовой энергетической установки, механизмов, систем; назначение, конструкцию судовых вспомогательных механизмов, систем и устройств; системы автоматического регулирования работы судовых энергетических установок;
ПК 3.1. Планировать и обеспечивать бесплатную погрузку, размещение, крепление судна и уход за ним в течение рейса и выгрузки;	8.Составлять грузовой план судна и делать расчет остойчивость судна;	основные документы для приема сдачи и перевозки грузов; коммерческие операции по перевозке грузов; основы формирования тарифов на операции с грузом; коммерческие операции по перевозке грузов; основы формирования тарифов на операции с грузом;
ПК 4.1. Оценивать эффективность и качество работы судна;	9.применять на практике методы контроля качества, оценки, статистики и надежности в эксплуатации судна и судовых технических средств	статистические методы для оценки показателей качества работы судна
ПК 4.2. Находить оптимальные варианты планирования рейса судна, технико-экономических характеристик эксплуатации судна.	10.пользоваться методами научного познания; применять логические законы и правила; накапливать научную информацию	основные положения теории оценок; интегральные оценки качества;

Личностные результаты реализации программы воспитания, определенные отраслевыми требованиями к деловым качествам личности	
Проявляющий сознательное отношение к непрерывному образованию как условию успешной профессиональной и общественной деятельности	ЛР 14

2. КОДИФИКАТОР ОЦЕНОЧНЫХ СРЕДСТВ

Функциональный признак оценочного средства (тип контрольного задания)	Метод/форма контроля
Расчётная задача	Контрольная работа, индивидуальное домашнее задание, лабораторная работа, практические занятия, дифференцированный зачёт, экзамен
Практическое задание	Лабораторная работа, практические занятия, дифференцированный зачёт, экзамен
Тест, тестовое задание	Тестирование, дифференцированный зачёт, экзамен
Проектное задание	Учебный проект, исследовательский, обучающий, сервисный, социальный творческий, рекламно-презентационный

Распределение типов контрольных заданий по элементам знаний и умений

Содержание учебного материала по программе учебной дисциплины	Тип контрольного задания										
	У1	У2	У3	У4	У5	З1	З2	З3	З4	З5	
Раздел 1 Математический анализ.											
Тема 1.1 Дифференциальное и интегральное исчисление											
Тема 1.2 Обыкновенные дифференциальные уравнения											
Тема 1.3 Ряды											
Раздел 2 Основные численные методы											
Тема 2.1. Основные численные методы											
Раздел 3. Основы теории вероятностей и математической статистики											
Тема 3.1. Основы теории вероятностей и математической статистики											
Раздел 4. Сферическая тригонометрия											

Содержание учебного материала по программе учебной дисциплины	Тип контрольного задания									
	У1	У2	У3	У4	У5	31	32	33	34	35
Тема 4.1. Сферическая тригонометрия										
Промежуточная аттестация	Экзамен									

Условные обозначения:

ФО – фронтальный (устный) опрос;

ТК – тестовый контроль;

ОК – проверка опорных конспектов;

ИЗ – выполнение индивидуальных заданий;

ПР – выполнение практической работы;

ДЗ – дифференцированный зачёт

3. СИСТЕМА ОЦЕНКИ ОБРАЗОВАТЕЛЬНЫХ ДОСТИЖЕНИЙ ОБУЧАЮЩИХСЯ ПО КАЖДОМУ ОЦЕНОЧНОМУ СРЕДСТВУ

Оценка индивидуальных образовательных достижений по результатам текущего контроля и промежуточной аттестации производится в соответствии с универсальной шкалой (таблица)

Процент результативности (правильных ответов)	Качественная оценка индивидуальных образовательных достижений	
	балл (отметка)	вербальный аналог
90-100	5	отлично
80-89	4	хорошо
70-79	3	удовлетворительно
менее 70	2	неудовлетворительно

Критерии оценки выполненного практического задания

Оценка 5 («отлично») ставится за работу, выполненную полностью без ошибок и недочётов.

Оценка 4 («хорошо») ставится за работу, выполненную полностью, но при наличии в ней не более одной негрубой ошибки и одного недочёта, не более трёх недочётов.

Оценка 3 («удовлетворительно») ставится, если обучающийся правильно выполнил не менее 2/3 всей работы или допустил не более одной грубой ошибки и двух недочётов, не более одной грубой и одной негрубой ошибки, не более трёх негрубых ошибок, одной негрубой ошибки и трёх недочётов, при наличии четырёх-пяти недочётов.

Оценка 2 («неудовлетворительно») ставится, если число ошибок и недочётов превысило норму для оценки 3 или правильно выполнено менее 2/3 всей работы.

Критерии оценки ответов в ходе устного опроса

Оценивается правильность ответа обучающегося на один из приведённых вопросов. При этом выставляются следующие оценки:

«Отлично» выставляется при соблюдении обучающимся следующих условий:

- полно раскрыл содержание материала в объёме, предусмотренном программой, содержанием лекции и учебником;
- изложил материал грамотным языком в определенной логической последовательности, точно используя специализированную терминологию и символику;
- показал умение иллюстрировать теоретические положения конкретными примерами, применять их в новой ситуации при выполнении практического задания;
- продемонстрировал усвоение ранее изученных сопутствующих вопросов, сформированность и устойчивость используемых при ответе умений и навыков;
- отвечал самостоятельно без наводящих вопросов преподавателя.

Примечание: для получения отметки «отлично» возможны одна-две неточности при освещении второстепенных вопросов или в выкладках, которые обучающийся легко исправил по замечанию преподавателя.

«Хорошо» - ответ обучающегося в основном удовлетворяет требованиям на оценку «отлично», но при этом имеет один из недостатков:

- в изложении допущены небольшие пробелы, не исказившие логического и информационного содержания ответа;
- допущены один-два недочёта при освещении основного содержания ответа, исправленные по замечанию преподавателя;
- допущены ошибка или более двух недочётов при освещении второстепенных вопросов или в выкладках, легко исправленные по замечанию преподавателя.

«Удовлетворительно» выставляется при соблюдении следующих условий:

- неполно или непоследовательно раскрыто содержание материала, но показано общее понимание вопроса и продемонстрированы умения, достаточные для дальнейшего усвоения программного материала, имелись затруднения или допущены ошибки в определении понятий, использовании терминологии и выкладках, исправленные после нескольких наводящих вопросов преподавателя;
- обучающийся не справился с применением теории в новой ситуации при выполнении практического задания, но выполнил задания обязательного уровня сложности по данной теме;
- при знании теоретического материала выявлена недостаточная сформированность основных умений и навыков.

«Неудовлетворительно» выставляется при соблюдении следующих условий:

- не раскрыто основное содержание учебного материала;
- обнаружено незнание или непонимание обучающимся большей или наиболее важной части учебного материала;
- допущены ошибки в определении понятий, при использовании терминологии и иных выкладках, которые не исправлены после нескольких наводящих вопросов преподавателя;
- обучающийся обнаружил полное незнание и непонимание изучаемого учебного материала или не смог ответить ни на один из поставленных вопросов по изучаемому материалу.

Критерии оценки составления и оформления опорных конспектов

В ходе проверки преподавателем опорные конспекты оцениваются по следующим критериям:

1. Соответствие содержания теме.
2. Правильная структурированность информации.
3. Наличие логической связи изложенной информации.
4. Аккуратность и грамотность изложения.
5. Работа сдана в срок.

Каждый критерий оценивается по 5-балльной шкале. При выставлении оценки за опорный конспект выводится среднее значение оценки по пяти перечисленным критериям, округляемое до целого значения (до оценки) по правилам округления.

Критерии оценки выполнения практических работ и индивидуальных (в т.ч. зачётных) заданий:

1. Задание считается выполненным безупречно, если результат практической работы получен при правильном ходе решения задания и аккуратном выполнении.

2. Задание считается невыполненным, если обучающийся не приступил к его выполнению или допустил в нем погрешность, считающуюся, в соответствии с целью работы, ошибкой.

В ходе оценивания выполнения практических и индивидуальных заданий используется пятибалльная система оценок. Положительная оценка («3», «4», «5») выставляется, когда обучающийся показал владение основным умениями в рамках выполнения практической работы или индивидуального задания:

1. «Отлично» выставляется при соблюдении следующих условий:

- обучающийся самостоятельно выполнил все этапы решения задач в рамках выполнения практических и индивидуальных заданий;
- работа выполнена полностью и получен верный ответ или иное требуемое представление результата работы.

2. «Хорошо» выставляется при соблюдении следующих условий:

- работа выполнена полностью, но при выполнении обнаружилось недостаточное владение навыками работы с инструментарием (оборудование, приборы и т.п.) в рамках поставленной задачи;
- правильно выполнена большая часть работы (свыше 85 %);
- работа выполнена полностью, но использованы наименее оптимальные подходы к решению поставленной задачи.

3. «Удовлетворительно» выставляется при соблюдении следующих условий:

- работа выполнена не полностью, допущено более трёх ошибок, но обучающийся владеет основными навыками работы с инструментарием (оборудование, приборы и т.п.), требуемым для решения поставленной задачи.

4. «Неудовлетворительно» выставляется при соблюдении следующих условий:

- допущены существенные ошибки, показавшие, что обучающийся не владеет обязательными знаниями, умениями и навыками работы на ПК или значительная часть работы выполнена не самостоятельно.

Критерии оценки в ходе экзамена

В основе оценки при сдаче экзамена лежит пятибалльная система (5 «отлично», 4 «хорошо», 3 «удовлетворительно», 2 «неудовлетворительно»).

1. Ответ оценивается на «отлично», если обучающийся исчерпывающе, последовательно, грамотно и логически стройно излагает материал по вопросам

билета (теста), не затрудняется с ответом при видоизменении задания, свободно справляется с решением практических задач и способен обосновать принятые решения, не допускает ошибок.

2. Ответ оценивается на «хорошо», если обучающийся твёрдо знает программный материал, грамотно и по существу его излагает, не допускает существенных неточностей при ответах, умеет грамотно применять теоретические знания на практике, а также владеет необходимыми навыками решения практических задач.

3. Ответ оценивается на «удовлетворительно», если обучающийся освоил только основной материал, однако не знает отдельных деталей, допускает неточности и некорректные формулировки, нарушает последовательность в изложении материала и испытывает затруднения при выполнении практических заданий.

4. Ответ оценивается на «неудовлетворительно», если обучающийся не раскрыл основное содержание материала, допускает существенные ошибки, с большими затруднениями выполняет практические задания.

4. БАНК КОМПЕТЕНТНОСТНО-ОЦЕНОЧНЫХ МАТЕРИАЛОВ ДЛЯ ОЦЕНКИ УСВОЕНИЯ УЧЕБНОЙ ДИСЦИПЛИНЫ

1. Комплект оценочных заданий

4.1.2. ПРАКТИЧЕСКАЯ РАБОТА

Практическая работа №1,2.

Вычисление пределов. Раскрытие неопределенности.

Ход работы.

Примеры.

1. Вычисление пределов с помощью теорем о пределах.

По правилу нахождения предела многочлена находим

$$1) \lim_{x \rightarrow 3} (3x^2 - 2x + 6) = 3 \cdot 3^2 - 2 \cdot 3 + 6 = 144$$

2. При раскрытии неопределенности $\frac{0}{0}$ используют разложение на множители.

$$1) \left(\frac{0}{0}\right) \lim_{x \rightarrow 3} \frac{x^2 - 5x + 6}{3x^2 - 9x} = \lim_{x \rightarrow 3} \frac{(x-3)(x-2)}{3x(x-3)} = \lim_{x \rightarrow 3} \frac{x-2}{3x} = \frac{3-2}{3 \cdot 3} = \frac{1}{9}$$

2) Если в числителе или знаменателе дроби содержится иррациональность, нужно умножить числитель и знаменатель на число, сопряженное числителю или знаменателю дроби.

$$\begin{aligned} \lim_{x \rightarrow 0} \frac{x}{\sqrt{5-x} - \sqrt{5+x}} &= \lim_{x \rightarrow 0} \frac{x(\sqrt{5-x} + \sqrt{5+x})}{(\sqrt{5-x} - \sqrt{5+x})(\sqrt{5-x} + \sqrt{5+x})} = \lim_{x \rightarrow 0} \frac{x(\sqrt{5-x} + \sqrt{5+x})}{-2x} = \\ &= \lim_{x \rightarrow 0} \frac{\sqrt{5-x} + \sqrt{5+x}}{-2} = \frac{\sqrt{5-0} + \sqrt{5+0}}{-2} = -\sqrt{5} \end{aligned}$$

3. При раскрытии неопределенности вида $\frac{\infty}{\infty}$ числитель и знаменатель делим почленно на переменную высшего порядка.

$$\frac{\infty}{\infty} \lim_{x \rightarrow \infty} \frac{x^4 - 2x^2 + 3}{3x^4 - 5} = \lim_{x \rightarrow \infty} \frac{\frac{x^4}{x^4} - \frac{2x^2}{x^4} + \frac{3}{x^4}}{\frac{3x^4}{x^4} - \frac{5}{x^4}} = \lim_{x \rightarrow \infty} \frac{1 - \frac{2}{x^2} + \frac{3}{x^4}}{3 - \frac{5}{x^4}} = \frac{1 - \frac{2}{\infty} + \frac{3}{\infty}}{3 - \frac{5}{\infty}} = \frac{1}{3}$$

4. Самостоятельная работа.

1) $\lim_{x \rightarrow 2} (3x^2 - 4)$

2) $\lim_{x \rightarrow -2} (4x^5 - 50x)$

3) $\lim_{x \rightarrow -2} \frac{2x^2 - 3x + 5}{x^2 - x + 2}$

4) $\lim_{x \rightarrow 3} \frac{x^2 + x - 12}{x - 3}$

5) $\lim_{x \rightarrow 1} \frac{3x^3 - 3x^2 + 2x - 2}{(x-1)^3}$

6) $\lim_{x \rightarrow 3} \frac{x-3}{\sqrt{x+1}-2}$

7) $\lim_{x \rightarrow 0} \frac{\sqrt{1-x} - \sqrt{1+x}}{2x}$

8) $\lim_{x \rightarrow \infty} \frac{3x^2 - 2x^3 - 4}{7x^3 + x^2 - 5x}$

9) $\lim_{x \rightarrow -\infty} \frac{3x^2 - 4}{5x^3 + x^2}$

Вычисление с помощью формул I и II замечательных пределов.

1. Примеры.

$$\lim_{x \rightarrow 0} \frac{\sin x}{x} = 1 \text{ - первый замечательный предел.}$$

$$1) \lim_{x \rightarrow 0} \frac{\sin 2x}{x}$$

приведем к первому замечательному пределу: $\lim_{x \rightarrow 0} \frac{\sin 2x}{x} = \lim_{x \rightarrow 0} \frac{2 \sin 2x}{2x} = 2 * 1 = 2$

$$2) \lim_{x \rightarrow 0} \frac{\ln(1+x)^4}{x}$$

Воспользуемся равносильной подстановкой:

$$\ln(1+x) \approx x, \text{ получим: } \lim_{x \rightarrow 0} \frac{\ln(1+x)^4}{x} = \lim_{x \rightarrow 0} \frac{4 \ln(1+x)}{x} = \lim_{x \rightarrow 0} \frac{4x}{x} = 4$$

$$\lim_{n \rightarrow \infty} \left(1 + \frac{1}{n}\right)^n = e \quad \lim_{\alpha \rightarrow 0} \left(1 + \alpha\right)^{\frac{1}{\alpha}} = e \text{ - второй замечательный предел.}$$

$$3) \lim_{x \rightarrow \infty} \left(x + \frac{6}{x}\right)^x$$

Приведем ко второму замечательному пределу с помощью замены.

$$\text{Пусть } x/6 = n. \text{ Тогда } x = 6n, \text{ получим } \lim_{x \rightarrow \infty} \left(1 + \frac{6}{x}\right)^x = \lim_{n \rightarrow \infty} \left(1 + \frac{1}{n}\right)^{6n} = \lim_{n \rightarrow \infty} \left(\left(1 + \frac{1}{n}\right)^n\right)^6 = e^6$$

2. Самостоятельная работа.

Вычислить пределы:

$$1) \lim_{x \rightarrow \infty} \left(1 + \frac{2}{3x}\right)^x$$

$$4) \lim_{x \rightarrow \infty} \left(\frac{2x+3}{2x+1}\right)^{x+0,5}$$

$$2) \lim_{x \rightarrow 0} (1 + 4x)^{\frac{3}{5x}}$$

$$3) \lim_{x \rightarrow \infty} \left(\frac{2x}{2x+1}\right)^x$$

Практическая работа № 3

Применение производной при решении задач.

1. Зависимость пути от времени при прямолинейном движении точки задана уравнением $s = \frac{1}{3}t^3 + 2t^2 - 3$. Вычислить ее скорость в момент времени $t = 4$ с.

2. Зависимость пути от времени при прямолинейном движении точки задана уравнением $s = \frac{1}{3}t^3 - \frac{1}{2}t^2 + 2$. Вычислить ее скорость в момент времени $t = 5$ с.

3. Скорость точки, движущейся прямолинейно задана уравнением $v = 2t^2 - 5t + 6$. В какой момент времени ускорение точки будет равно 2 м/с^2 ?

6. Зависимость пути от времени при прямолинейном движении двух тел задана уравнениями: $s_1 = \frac{2}{3}t^3 + t^2 - t + 14$; $s_2 = \frac{2}{3}t^3 - \frac{1}{2}t^2 + 11t - 8$. В какой момент времени их скорости будут равны?

7. Зависимость пути от времени при прямолинейном движении тела массой 12 кг задана уравнением $s = t^2 + 2t + 3$. Найти кинетическую энергию тела $E_k = mv^2/2$ через 5 с после начала движения.

Вариант 1

1. Составить уравнение касательной к параболе $y = x^2 - 6x + 5$ в точке с абсциссой $x = 4$.

2. Вычислить острый угол, под которым парабола $y = x^2 - 4$ пересекает ось абсцисс.

Вариант 7

1. Составить уравнение касательной к параболе $y^2 = 2x$ в точке $(8; 4)$.

2. Найти координаты точки, в которой касательная к параболе $y = \frac{3}{2}x^2 - 4x + 5$ образует угол 135° с осью Ox .

Практическая работа № 4

Определенный интеграл. Методы вычисления.

- 1). Найти соответствующий табличный неопределённый интеграл.
- 2). В полученную первообразную вместо переменной подставить сначала верхний предел, а затем – нижний.
- 3). Из первого результата вычесть второй.

Вычисления проводят по формуле Ньютона – Лейбница:

$$\int_a^b f(x)dx = F(x) \Big|_a^b = F(b) - F(a).$$

ПРИМЕРЫ.

Вычислить определённые интегралы, применив формуле Ньютона – Лейбница:

- 1). $\int_1^3 8x^3 dx = 8 \cdot \frac{x^4}{4} \Big|_1^3 = 2x^4 \Big|_1^3 = 2 \cdot 3^4 - 2 \cdot 1^4 = 160(e^2)$.
- 2). $\int_{-1}^1 e^x dx = e^x \Big|_{-1}^1 = e^1 - e^{-1} = e - \frac{1}{e} = \frac{e^2 - 1}{e}$.
- 3). $\int_{\frac{\pi}{6}}^{\frac{\pi}{2}} \cos x dx = \sin x \Big|_{\frac{\pi}{6}}^{\frac{\pi}{2}} = \sin \frac{\pi}{2} - \sin \frac{\pi}{6} = 1 - \frac{1}{2} = \frac{1}{2}$.

III. Самостоятельная работа.

- 1). $\int_1^3 x^4 dx$.
- 2). $\int_{-2}^3 (4x^3 - 3x^2 + 2x + 1) dx$.
- 3). $\int_3^6 \frac{dx}{x}$.
- 4). $\int_1^8 \sqrt[3]{x^2} dx$.
- 5). $\int_0^9 \sqrt{x} dx$.
- 6). $\int_{\frac{1}{2}}^1 \frac{dx}{x^3}$.
- 7). $\int_{-\frac{\pi}{3}}^{\frac{\pi}{4}} \frac{dx}{\cos^2 x}$.
- 8). $\int_{\frac{\pi}{6}}^{\frac{\pi}{3}} \left(\frac{1}{\cos^2 x} - \frac{1}{\sin^2 x} \right) dx$.
- 9). $\int_{-1}^1 (x^2 + 1) dx$.

IV. Примеры.

Вычислить способом подстановки.

$$\int_0^{\frac{\pi}{2}} \frac{\cos x dx}{2 + \sin x}.$$

Замена: $2 + \sin x = t$

Дифференциал: $\cos x dx = dt$

Новые пределы $t_n = 2 + \sin 0 = 2$; $t_a = 2 + \sin \frac{\pi}{2} = 3$.

Тогда $\int_2^3 \frac{dt}{t} = \ln|t| \Big|_2^3 = \ln 3 - \ln 2 = \ln \frac{3}{2} = \ln 1,5$.

V. Самостоятельная работа.

1). $\int_{\frac{\pi}{12}}^{\frac{\pi}{8}} \sin 2x dx.$

2). $\int_{-1}^2 (x^2 - 1)^3 dx.$

3). $\int_0^{\frac{\pi}{3}} \frac{\sin x dx}{3 - \cos x}.$

4). $\int_{\frac{\pi}{18}}^{\frac{\pi}{12}} \cos 3x dx.$

5). $\int_{\frac{\pi}{8}}^{\frac{\pi}{6}} \frac{dx}{\cos^2 2x}.$

6). $\int_0^{\frac{\pi}{6}} e^{\sin x} \cos x dx.$

Применение определенного интеграла к решению геометрических задач.

Основные сведения.

1). Криволинейной трапецией называется фигура, ограниченная линиями $y = f(x)$; $x = a$; $x = b$; и осью Ox ($y = 0$).

Площадь криволинейной трапеции вычисляется при помощи определённого интеграла

$$S = \int_a^b f(x) dx.$$

2). Чтобы найти площадь фигуры, ограниченной линиями, нужно:

- Построить чертёж криволинейной трапеции с помощью заданных графиков и граничных линий.
- Найти точки пересечения графиков (верх-

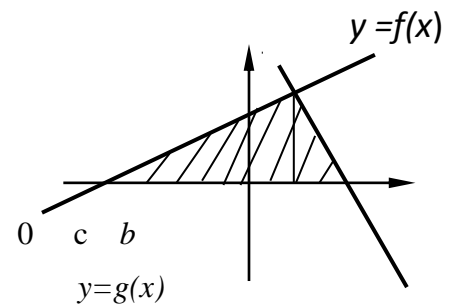


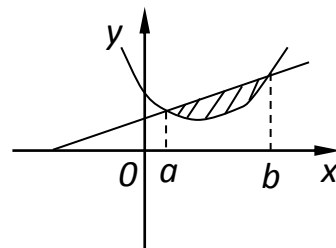
рис. 2

ний и нижний пределы), составив уравнения:

$$a: f(x) = 0; \quad b: g(x) = 0; \quad c: f(x) = g(x).$$

3). Составить и найти интегралы:

- если фигура соответствует (рис.2), то $S = S_1 + S_2$;
- если фигура соответствует (рис.3), то $S = S_1 - S_2$.
- если криволинейная трапеция расположена ниже оси Ox , то перед интегралом ставим знак минус.



Примеры.

3). $xy = 6$ и $x + y - 7 = 0$.

Решение. Выразим y , построим фигуру

$$y = \frac{6}{x}; \quad y = 7 - x$$

Найдём границы интегрирования: $f(x) = 0$

$$\frac{6}{x} = 7 - x; \quad x^2 - 7x + 6 = 0 \quad x_1 = 6; \quad x_2 = 1$$

Исходя из рис. 3, площадь фигуры вычислим по формуле

$$S = S_1 - S_2.$$

$$S_1 = \int_1^6 (7 - x) dx = \left(7x - \frac{x^2}{2} \right) \Big|_1^6 = (42 - 18) - (7 - 0,5) = 17,5(e\partial^2).$$

$$S_2 = \int_1^6 \frac{6}{x} dx = (6 \ln|x|) \Big|_1^6 = 6 \ln 6 - 6 \ln 1 = 6 \ln 6(e\partial^2).$$

Окончательно $S = 17,5 - 6 \ln 6 (e\partial^2)$.

III. Самостоятельная работа.

Найти площадь фигуры, ограниченной линиями:

1) $y = \frac{1}{2}x + 1, \quad y = 6 - 2x, \quad y = 0;$

6) $y = -x^2, \quad y = \frac{1}{x}, \quad y = e,$

2) $y = x^2, \quad y = 2 - x, \quad y = 0;$

7) $y = -x^2 + 5, \quad y = x + 3;$

3) $y = x^2, \quad y = 2 - x;$

8) $x - 2y + 4 = 0, \quad x + y - 5 = 0;$

4) $y = x^2, \quad y = 2x;$

9) $xy = 6, \quad x + y = 7.$

5) $y = 3 + x^2, \quad y = 7;$

Практические работы № 5

Решение дифференциальных уравнений .

1. Основные сведения: Решить дифференциальное уравнение – это значит, найти **множество всех функций**, которые удовлетворяют данному уравнению. Такое множество функций часто имеет вид $y = f(x, C)$ (C – произвольная постоянная), который называется **общим решением дифференциального уравнения**.

Пример 1: Решить дифференциальное уравнение $xy' = y$

$$y' = \frac{dy}{dx} \quad x \cdot \frac{dy}{dx} = y$$

Перепишем производную в другом виде.

В рассматриваемом примере переменные легко разделяются перекидыванием множителей по правилу пропорции:

Переменные разделены. В $\frac{dy}{y} = \frac{dx}{x}$ левой части – только «игреки», в правой части – только «иксы».

Следующий этап – **интегрирование дифференциального уравнения**. Всё просто, навешиваем интегралы на обе части:

$$\int \frac{dy}{y} = \int \frac{dx}{x}$$

Разумеется, интегралы

нужно взять. В данном случае они табличные:

Решение $\ln|y| = \ln|x| + C$ дифференциального уравнения в неявном виде называется **общим интегралом дифференциального уравнения**. То есть, $\ln|y| = \ln|x| + C$ – это общий интеграл.

Попытаемся получить **общее решение**.

Пожалуйста, **запомните первый технический приём**, он очень распространен и часто применяется в практических заданиях: *если в правой части после интегрирования появляется логарифм, то константу во многих случаях (но далеко не всегда!) тоже целесообразно записать под логарифмом*.

То есть, **ВМЕСТО** записи $\ln|y| = \ln|x| + C$ обычно пишут $\ln|y| = \ln|x| + \ln|C|$.

Зачем это нужно? А для того, чтобы легче было выразить «игрек». Используем свойство логарифмов $\ln a + \ln b = \ln(ab)$. В данном случае: $\ln|y| = \ln|Cx|$

Теперь логарифмы и модули можно убрать: $y = Cx$

Функция представлена в явном виде. Это и есть общее решение.

Ответ: общее решение: $y = Cx$, где $C = const$.

Пример 2 Найти частное решение дифференциального уравнения $y' = -2y$, удовлетворяющее начальному условию $y(0) = 2$

Решение: по условию требуется найти **частное решение** ДУ, удовлетворяющее заданному начальному условию. Такая постановка вопроса также называется *задачей Коши*.

$$\frac{dy}{dx} = -2y$$

Сначала находим общее решение.

Интегрируем уравнение:

$$\frac{dy}{y} = -2dx \quad \int \frac{dy}{y} = -2 \int dx \quad \ln|y| = -2x + C^*$$

Общий интеграл получен.

Теперь пробуем общий интеграл преобразовать в общее решение (выразить «игрек» в явном виде). По определению логарифма: $\ln a = b \Rightarrow a = e^b$. В данном случае:

Используя свойство $y = e^{-2x+C^*}$ степеней, перепишем функцию следующим образом:
 $y = e^{C^*} \cdot e^{-2x}$

Если C^* – это константа, то e^{C^*} – тоже некоторая константа, переобозначим её буквой C :

$$y = Ce^{-2x}$$

Итак, общее решение: $y = Ce^{-2x}$, где $C = const$.

Найдем частное решение, удовлетворяющее заданному начальному условию $y(0) = 2$.

В общее решение вместо «икса» подставляем ноль, а вместо «игрека» двойку:

$$2 = Ce^{-2 \cdot 0}$$

$$2 = Ce^0$$

$$2 = C \cdot 1$$

То есть, $C = 2$

Таким образом $y(0) = Ce^{-2 \cdot 0} = Ce^0 = C = 2$

Теперь в общее решение $y = Ce^{-2x}$ подставляем найденное значение константы $C = 2$:

$y = 2e^{-2x}$ – это и есть нужное нам частное решение.

Ответ: частное решение: $y = 2e^{-2x}$

2. Самостоятельная работа.

1. Найти частное решение дифференциального уравнения $y \ln y + xy' = 0$,

удовлетворяющее начальному условию $y(1) = e$

2. Найти частное решение ДУ.

$$2y' \sin y \cdot \cos y \cdot \sin^2 x + \cos x = 0, \quad y\left(\frac{\pi}{2}\right) = 0$$

Практическая работа № 6,7

Решение дифференциальных уравнений 1 порядка с разделяющимися переменными.

Пример 1: Решить дифференциальное уравнение $xy' = y$

Перепишем производную в другом виде. $y' = \frac{dy}{dx}$. Итак $x \cdot \frac{dy}{dx} = y$

В рассматриваемом примере переменные легко разделяются перекидыванием множителей по правилу пропорции:

Переменные разделены. В $\frac{dy}{y} = \frac{dx}{x}$ левой части – только «игреки», в правой части – только «иксы».

Следующий этап – **интегрирование дифференциального уравнения**. Всё просто, навешиваем интегралы на обе части:

$$\int \frac{dy}{y} = \int \frac{dx}{x}$$

Разумеется, интегралы нужно взять. В данном случае они табличные:

Решение $\ln|y| = \ln|x| + C$ дифференциального уравнения в неявном виде называется **общим интегралом дифференциального уравнения**. То есть, $\ln|y| = \ln|x| + C$ – это общий интеграл.

Попытаемся получить **общее решение**.

Пожалуйста, **запомните первый технический приём**, он очень распространен и часто применяется в практических заданиях: *если в правой части после интегрирования появляется логарифм, то константу во многих случаях (но далеко не всегда!) тоже целесообразно записать под логарифмом.*

То есть, **ВМЕСТО** записи $\ln|y| = \ln|x| + C$ обычно пишут $\ln|y| = \ln|x| + \ln|C|$.

Зачем это нужно? А для того, чтобы легче было выразить «игрек». Используем свойство логарифмов $\ln a + \ln b = \ln(ab)$. В данном случае: $\ln|y| = \ln|Cx|$

Теперь логарифмы и модули можно убрать: $y = Cx$

Функция представлена в явном виде. Это и есть общее решение.

Ответ: общее решение: $y = Cx$, где $C = const$.

2. Самостоятельная работа.

1. Решить дифференциальное уравнение $y' + (2y + 1)\operatorname{ctg}x = 0$

2. Решить дифференциальное уравнение $\sqrt{3+y^2}dx + \sqrt{1-x^2}ydy = 0$

3. Решить дифференциальное уравнение $2(xy+y)y' + x(y^4+1) = 0$

4. Решить дифференциальное уравнение $(1+e^x)ydy - e^y dx = 0$

5. Решить дифференциальное уравнение $y - xy' = 3(1+x^2y')$

Решение дифференциальных уравнений II порядка с постоянными коэффициентами

1. Основные сведения

В теории и практике различают два типа таких уравнений – **однородное уравнение** и **неоднородное уравнение**.

Однородное ДУ второго порядка с постоянными коэффициентами имеет следующий вид: $y'' + py' + qy = 0$, где p и q – константы (числа), а в правой части – **строго** ноль.

Рассмотрим алгоритм решения линейного однородного уравнения второго порядка:

$$y'' + py' + qy = 0$$

Для того чтобы решить данное ДУ, нужно составить так называемое **характеристическое уравнение**:

$$\lambda^2 + p\lambda + q = 0$$

По какому принципу составлено характеристическое уравнение, отчётливо видно:

вместо второй производной записываем λ^2 ;

вместо первой производной записываем просто «лямбду»;

вместо функции y ничего не записываем.

$\lambda^2 + p\lambda + q = 0$ – это **обычное квадратное уравнение**, которое предстоит решить.

Существуют три варианта развития событий. Они доказаны в курсе

математического анализа, и на практике мы будем использовать готовые формулы.

Характеристическое уравнение имеет два различных действительных корня

Если характеристическое уравнение $\lambda^2 + p\lambda + q = 0$ имеет два **различных** действительных корня λ_1, λ_2 (т.е., если дискриминант $D > 0$), то общее решение однородного уравнения выглядит так: $y = C_1 e^{\lambda_1 x} + C_2 e^{\lambda_2 x}$, где C_1, C_2 – константы.

В случае если один из корней равен нулю, решение очевидным образом упрощается; пусть, например, $\lambda_1 = 0$, тогда общее решение: $y = C_1 e^{0 \cdot x} + C_2 e^{\lambda_2 x} = C_1 + C_2 e^{\lambda_2 x}$.

Характеристическое уравнение имеет два кратных действительных корня

Если характеристическое уравнение $\lambda^2 + p\lambda + q = 0$ имеет два **кратных** (совпавших) действительных корня $\lambda_1 = \lambda_2$ (дискриминант $D = 0$), то общее решение однородного уравнения принимает вид:

$$y = C_1 e^{\lambda_1 x} + C_2 x e^{\lambda_1 x}, \text{ где } C_1, C_2 \text{ – константы.}$$

Вместо λ_1 в формуле можно было нарисовать λ_2 , корни всё равно одинаковы.

Если оба корня равны нулю $\lambda_1 = \lambda_2 = 0$, то общее решение опять же упрощается: $y = C_1 e^{0 \cdot x} + C_2 x e^{0 \cdot x} = C_1 + C_2 x$. Кстати, $y = C_1 + C_2 x$ является общим решением того самого примитивного уравнения $y'' = 0$, о котором я упоминал в начале урока. Почему? Составим характеристическое уравнение: $\lambda^2 = 0$ – действительно, данное уравнение как раз и имеет совпавшие нулевые корни $\lambda_1 = \lambda_2 = 0$.

Характеристическое уравнение имеет сопряженные комплексные корни

Для понимания третьего случая требуются элементарные знания про комплексные числа.

Если характеристическое уравнение $\lambda^2 + p\lambda + q = 0$ имеет **сопряженные** комплексные корни $\lambda_1 = \alpha - \beta i, \lambda_2 = \alpha + \beta i$ (дискриминант $D < 0$), то общее решение однородного уравнения принимает вид:

$$y = e^{\alpha x} \cdot (C_1 \cos \beta x + C_2 \sin \beta x), \text{ где } C_1, C_2 \text{ – константы.}$$

Примечание: Сопряженные комплексные корни почти всегда записывают кратко следующим образом: $\lambda_{1,2} = \alpha \pm \beta i$

Если получаются *чисто мнимые* сопряженные комплексные корни: $\lambda_{1,2} = \pm \beta i$, то общее решение упрощается:

$$y = e^{0 \cdot x} \cdot (C_1 \cos \beta x + C_2 \sin \beta x) = C_1 \cos \beta x + C_2 \sin \beta x$$

Пример 1

Решить дифференциальное уравнение $y'' + y' - 2y = 0$

Решение: составим и решим характеристическое уравнение:

$$\lambda^2 + \lambda - 2 = 0$$

$$D = 1 + 8 = 9, \sqrt{D} = 3$$

$$\lambda_1 = \frac{-1-3}{2} = -2, \lambda_2 = \frac{-1+3}{2} = 1$$

Получены два различных действительных корня (от греха подальше лучше сразу же выполнить проверку, подставив корни в уравнение).

Всё, что осталось сделать – записать ответ, руководствуясь формулой $y = C_1 e^{\lambda_1 x} + C_2 e^{\lambda_2 x}$

Ответ: общее решение: $y = C_1 e^{-2x} + C_2 e^x$, где $C_1, C_2 - const$

Пример 3

Решить дифференциальное уравнение $y'' - 6y' + 9y = 0$

Решение: составим и решим характеристическое уравнение:

$$\lambda^2 - 6\lambda + 9 = 0$$

Здесь можно вычислить дискриминант, получить ноль и найти кратные корни. Но можно невозбранно применить известную школьную формулу сокращенного умножения:

$$(\lambda - 3)^2 = 0$$

(конечно, формулу нужно увидеть, это приходит с опытом решения)

Получены два кратных действительных корня $\lambda_{1,2} = 3$

Ответ: общее решение: $y = C_1 e^{3x} + C_2 x e^{3x}$, где $C_1, C_2 - const$

Пример 5

Решить однородное дифференциальное уравнение второго порядка

$$y'' - 2y' + 10y = 0$$

Решение: Составим и решим характеристическое уравнение:

$$\lambda^2 - 2\lambda + 10 = 0$$

$$D = 4 - 40 = -36$$

$$\lambda_{1,2} = \frac{2 \pm 6i}{2} = 1 \pm 3i$$

– получены сопряженные комплексные корни

Ответ: общее решение: $y = e^x (C_1 \sin 3x + C_2 \cos 3x)$, где $C_1, C_2 - const$

2. Самостоятельная работа

Найти общее решение дифференциального уравнения, выполнить проверку

$$y'' - 4y' = 0$$

Найти общее решение дифференциального уравнения $y'' + 2y' + y = 0$

Решить однородное дифференциальное уравнение второго порядка

$$y'' - 4y' + 5y = 0$$

Практическая работа №8.

Исследование на сходимость рядов с положительными членами.

Числовым рядом называется выражение вида

$$a_1 + a_2 + \dots + a_n + \dots = \sum_{n=1}^{\infty} a_n \quad (1),$$

где числа $a_1, a_2, \dots, a_n, \dots$ называются **членами ряда**; a_n - **общим членом ряда**.

Если все они неотрицательны, то такой ряд называют **положительным числовым рядом**.

Суммирование не обязательно начинается с единицы, в ряде случаев оно может начинаться с нуля $\sum_{n=0}^{\infty}$, с двойки $\sum_{n=2}^{\infty}$ либо с любого натурального числа.

Ряд считается заданным, если известен общий член ряда a_n , выраженный как функция его номера $a_n = f(n)$.

Примеры:

Для заданных рядов написать первые три члена ряда

$$1) \sum_{n=1}^{\infty} (n+3) \cdot 2^n$$

$$a_1 = (1+3) \cdot 2^1 = 8$$

$$a_2 = (2+3) \cdot 2^2 = 20$$

$$a_3 = (3+3) \cdot 2^3 = 48$$

Ряд можно записать в виде

$$8 + 20 + 48 + \dots + (n+3) \cdot 2^n + \dots$$

$$2) \sum_{n=1}^{\infty} \frac{n}{6^n + 1}$$

$$a_1 = \frac{1}{6^1 + 1} = \frac{1}{7}$$

$$a_2 = \frac{2}{6^2 + 1} = \frac{2}{37}$$

$$a_3 = \frac{3}{6^3 + 1} = \frac{3}{217}$$

Ряд можно записать в виде

$$\frac{1}{7} + \frac{2}{37} + \frac{3}{217} + \dots + \frac{n}{6^n + 1} + \dots$$

Признаки сходимости

Необходимый признак сходимости

Если ряд $a_1 + a_2 + \dots + a_n + \dots = \sum_{n=1}^{\infty} a_n$ (1) сходится, то $\lim_{n \rightarrow \infty} a_n = 0$

Признаком удобнее пользоваться в виде:

Если $\lim_{n \rightarrow \infty} a_n \neq 0$, то ряд (1) расходится.

Примеры:

Исследовать ряды на сходимость

$$1) \sum_{n=1}^{\infty} (n+3) \cdot 2^n$$

$$\lim_{n \rightarrow \infty} a_n = \lim_{n \rightarrow \infty} (n+3) \cdot 2^n = \infty$$

Ответ: ряд расходится

$$2) \sum_{n=1}^{\infty} \frac{3n-2}{5n+1}$$

$$\lim_{n \rightarrow \infty} a_n = \lim_{n \rightarrow \infty} \frac{3n-2}{5n+1} = \lim_{n \rightarrow \infty} \frac{3 - \frac{2}{n}}{5 + \frac{1}{n}} = \frac{3}{5} \neq 0$$

Ответ: ряд расходится

$$3) \sum_{n=1}^{\infty} \frac{2n}{n^2+1}$$

$$\lim_{n \rightarrow \infty} a_n = \lim_{n \rightarrow \infty} \frac{2n}{n^2+1} = \lim_{n \rightarrow \infty} \frac{2}{n + \frac{1}{n}} = 0$$

Необходимый признак выполнен, ряд может сходиться или расходиться, т.е. требуется дополнительное исследование.

Достаточные признаки сходимости**Признаки сравнения**

I признак сравнения:

Пусть даны 2 ряда с положительными членами $\sum_{n=1}^{\infty} a_n(1)$ и $\sum_{n=1}^{\infty} b_n(2)$,

причем $a_n \leq b_n$ при $n=1,2,3,\dots$

Тогда: если сходится ряд (2), то сходится и ряд (1)

если расходится ряд (1), то расходится и ряд (2)

II признак сравнения:

Если существует конечный и отличный от нуля $\lim_{n \rightarrow \infty} \frac{a_n}{b_n}$, то ряды (1) и (2) сходятся или расходятся одновременно

Замечание:

В качестве рядов для сравнения удобно выбирать ряды:

1) геометрическую прогрессию $\sum_{n=1}^{\infty} a \cdot q^{n-1}$

Если $|q| < 1$, то ряд сходится

Если $|q| \geq 1$, то ряд расходится

2) ряд $\sum_{n=1}^{\infty} \frac{1}{n^p}$

Если $p > 1$, то ряд сходится

Если $p \leq 1$, то ряд расходится

Ряд $\sum_{n=1}^{\infty} \frac{1}{n}$ называется **гармоническим** (расходится)

Примеры:

Исследовать ряды на сходимость

1) $\sum_{n=1}^{\infty} \frac{1}{n(n+1)}$

$$a_n = \frac{1}{n^2 + n} < \frac{1}{n^2} = b_n$$

$$\sum_{n=1}^{\infty} b_n = \sum_{n=1}^{\infty} \frac{1}{n^2}$$

$p=2$, значит ряд $\sum_{n=1}^{\infty} b_n$ сходится, тогда по I признаку сравнения ряд $\sum_{n=1}^{\infty} a_n$ сходится

Ответ: ряд сходится

2) $\sum_{n=1}^{\infty} \frac{2}{(n+1) \cdot 3^n}$

$$a_n = \frac{1}{(n+1) \cdot 3^n} < \frac{1}{3^n} = b_n$$

$$\sum_{n=1}^{\infty} b_n = \sum_{n=1}^{\infty} \frac{1}{3^n}$$

Ряд $\sum_{n=1}^{\infty} b_n$ сходится, т.к. это геометрическая прогрессия со знаменателем $q = \frac{1}{3} < 1$, тогда по I признаку сравнения ряд $\sum_{n=1}^{\infty} a_n$ сходится

Ответ: ряд сходится

$$3) \sum_{n=1}^{\infty} \frac{2n}{n^2 + 1}$$

$$a_n = \frac{2n}{n^2 + 1}; b_n = \frac{1}{n}$$

$$\lim_{n \rightarrow \infty} \frac{a_n}{b_n} = \lim_{n \rightarrow \infty} \frac{2n \cdot n}{n^2 + 1} = \lim_{n \rightarrow \infty} \frac{2}{1 + \frac{1}{n^2}} = 2 \neq 0$$

$P=1$, значит ряд $\sum_{n=1}^{\infty} b_n$ расходится, тогда по II признаку сравнения ряд $\sum_{n=1}^{\infty} a_n$ расходится

Ответ: ряд расходится

Замечание:

Если общий член ряда представляет собой частное от деления многочленов, то для сравнения выбираем ряд $\sum_{n=1}^{\infty} \frac{1}{n^p}$, где показатель p равен разности между старшими показателями знаменателя и числителя.

$$4) \sum_{n=1}^{\infty} \frac{n^3 + 3n^2 - 3}{5n^6 - 2n^4 + 3n^2 + 1}$$

$$a_n = \frac{n^3 + 3n^2 - 3}{5n^6 - 2n^4 + 3n^2 + 1}; b_n = \frac{1}{n^p}$$

$$p = 6 - 3 = 3 \Rightarrow b_n = \frac{1}{n^3}$$

$$\lim_{n \rightarrow \infty} \frac{a_n}{b_n} = \lim_{n \rightarrow \infty} \frac{(n^3 + 3n^2 - 3) \cdot n^3}{5n^6 - 2n^4 + 3n^2 + 1} = \lim_{n \rightarrow \infty} \frac{1 + \frac{3}{n} - \frac{3}{n^3}}{5 - \frac{2}{n^2} + \frac{3}{n^4} + \frac{1}{n^6}} = \frac{1}{5} \neq 0$$

$R=3$, значит ряд $\sum_{n=1}^{\infty} b_n$ сходится, тогда по II признаку сравнения ряд $\sum_{n=1}^{\infty} a_n$ сходится

Ответ: ряд сходится

Достаточные признаки сходимости

Признак Даламбера:

Если для ряда $\sum_{n=1}^{\infty} a_n$ (1) существует предел $\lim_{n \rightarrow \infty} \frac{a_{n+1}}{a_n} = k$, то при $k < 1$ ряд сходится, при $k > 1$ ряд расходится

Признак Коши:

Если для ряда $\sum_{n=1}^{\infty} a_n$ (1) существует предел $\lim_{n \rightarrow \infty} \sqrt[n]{a_n} = k$, то при $k < 1$ ряд сходится, при $k > 1$ ряд расходится

Замечание:

Признак Даламбера удобно применять, если в общий член ряда входят:

- 1) a^n
- 2) факториал
- 3) несколько множителей

Признак Коши удобно применять, если общий член содержит степень, зависящую от n

Важно!

Для предварительной оценки сходимости ряда учитываем:

Факториал растёт быстрее, чем **любая** показательная последовательность, т.е. $\lim_{n \rightarrow +\infty} \frac{10^n}{n!} = 0$
или $\lim_{n \rightarrow +\infty} \frac{n!}{10^n} = +\infty$

Факториал растёт быстрее, чем **любая** степенная последовательность или многочлен,

т.е. $\lim_{n \rightarrow +\infty} \frac{n^{10}}{n!} = 0$ или $\lim_{n \rightarrow +\infty} \frac{n!}{n^{10}} = +\infty$.

Любая показательная последовательность растёт быстрее, чем **любая** степенная

последовательность, т.е. $\lim_{n \rightarrow +\infty} \frac{n^{10}}{2^n} = 0$, $\lim_{n \rightarrow +\infty} \frac{2^n}{n^{10}} = +\infty$

Примеры:

Исследовать ряды на сходимость

$$1) \sum_{n=1}^{\infty} \frac{3^n}{(n+1)(n+3)}$$

$$a_n = \frac{3^n}{(n+1)(n+3)}; a_{n+1} = \frac{3^{n+1}}{(n+2)(n+4)}$$

$$\lim_{n \rightarrow \infty} \frac{a_{n+1}}{a_n} = \lim_{n \rightarrow \infty} \frac{3^{n+1}(n+1)(n+3)}{3^n(n+2)(n+4)} = 3 \lim_{n \rightarrow \infty} \frac{(1+\frac{1}{n})(1+\frac{3}{n})}{(1+\frac{2}{n})(1+\frac{4}{n})} = 3 > 1$$

Т.к. предел больше 1, то по признаку Даламбера ряд расходится

Ответ: ряд расходится

$$2) \sum_{n=1}^{\infty} \frac{n^3}{(2n)!}$$

$$a_n = \frac{n^3}{(2n)!}; a_{n+1} = \frac{(n+1)^3}{(2(n+1))!} = \frac{(n+1)^3}{(2n+2)!}$$

$$\lim_{n \rightarrow \infty} \frac{a_{n+1}}{a_n} = \lim_{n \rightarrow \infty} \frac{(n+1)^3 (2n)!}{n^3 (2n)! (2n+1)(2n+2)} = \lim_{n \rightarrow \infty} \frac{(1+\frac{1}{n})^3}{1 \cdot (2n+1)(2n+2)} = 0 < 1$$

Т.к. предел меньше 1, то по признаку Даламбера ряд сходится

Ответ: ряд сходится

$$3) \sum_{n=1}^{\infty} \left(\frac{n+1}{3n-2}\right)^n$$

$$\lim_{n \rightarrow \infty} \sqrt[n]{a_n} = \lim_{n \rightarrow \infty} \sqrt[n]{\left(\frac{n+1}{3n-2}\right)^n} = \lim_{n \rightarrow \infty} \frac{n+1}{3n-2} = \lim_{n \rightarrow \infty} \frac{1+\frac{1}{n}}{3-\frac{2}{n}} = \frac{1}{3} < 1$$

Т.к. предел меньше 1, то по признаку Коши ряд сходится

Ответ: ряд сходится**Выполнить самостоятельно:**

Для заданных рядов написать первые три члена ряда

$$1) \sum_{n=1}^{\infty} n \cdot 3^{n+1}$$

$$2) \sum_{n=1}^{\infty} \frac{2^n}{(n+1)!}$$

Исследовать ряды на сходимость

$$3) \sum_{n=1}^{\infty} \frac{1}{4n+1}$$

$$4) \sum_{n=1}^{\infty} n \cdot 5^{n+2}$$

$$5) \sum_{n=1}^{\infty} \frac{2^n - 1}{7^n + 3}$$

$$6) \sum_{n=1}^{\infty} \frac{4n^3 - 3n^2 + 5n - 2}{3n^3 - 7n + 5}$$

$$7) \sum_{n=1}^{\infty} \frac{3^n}{2^n(3n+2)}$$

$$8) \sum_{n=1}^{\infty} \frac{10^n}{(n+1)!}$$

$$9) \sum_{n=1}^{\infty} \frac{2n+3}{4^n(n+2)}$$

$$10) \sum_{n=1}^{\infty} \left(\frac{3n+2}{5n+1}\right)^n$$

$$11) \sum_{n=1}^{\infty} \frac{2^{n+1}}{n^n}$$

Критерии оценок:

«3» - за верно выполненных 6 заданий

«4» - за верно выполненных 8 заданий

«5» - за верно выполненных 10 заданий

Практическая работа №9.

Исследование на сходимость знакопеременных рядов

Знакоперевающимся рядом называется ряд вида

$$a_1 - a_2 + a_3 - \dots + (-1)^{n+1} a_n + \dots = \sum_{n=1}^{\infty} (-1)^{n+1} a_n \quad (1)$$

где $a_n > 0$ для всех $n=1,2,3,\dots$

Достаточный признак сходимости Лейбница

Знакопередающийся ряд $\sum_{n=1}^{\infty} (-1)^{n+1} a_n$ (1) **сходится, если**

1) Абсолютные величины его членов убывают, т.е. $a_1 > a_2 > a_3 > \dots$

2) Общий член ряда стремится к нулю, т.е. $\lim_{n \rightarrow \infty} a_n = 0$

Замечание:

При практическом использовании рядов обычно ограничиваются несколькими первыми членами. При этом, допускаемая ошибка (остаток ряда) оценивается при помощи неравенства:

$$|R_n| < a_{n+1}$$

Если хотя бы одно из условий не выполняется, то **ряд расходится**.

Знакопередающийся ряд может сходиться абсолютно или условно.

Знакопередающийся ряд **сходится абсолютно**, если сходится ряд, составленный из модулей его членов.

Знакопередающийся ряд **сходится условно**, если сам ряд сходится, а ряд, составленный из модулей его членов, расходится.

Алгоритм исследования знакопередающихся рядов на сходимость

1) Составим ряд из модулей членов ряда (1) - $\sum_{n=1}^{\infty} |a_n|$ (2) (это ряд положительными членами) и исследуем его сходимость (по признакам сравнения, Даламбера, Коши)

2) Если ряд (2) сходится, то исходный ряд (1) сходится абсолютно

3) Если ряд (2) расходится, то исходный ряд (1) исследуем по признаку Лейбница

4) Если условия признака Лейбница выполняются, то ряд (1) сходится условно

5) Если условия признака Лейбница не выполняются, то ряд (1) расходится

Примеры:

Исследовать знакопередающиеся ряды на сходимость

$$1) \sum_{n=1}^{\infty} \frac{(-1)^{n+1}(n+2)}{n^3 - 3n + 4}$$

Составим ряд из модулей $\sum_{n=1}^{\infty} \frac{n+2}{n^3 - 3n + 4}$

Общий член ряда представляет собой частное от деления многочленов,

воспользуемся II признаком сравнения; для сравнения выберем ряд $\sum_{n=1}^{\infty} \frac{1}{n^p}$, где показатель p равен разности между старшими показателями знаменателя и числителя

$$a_n = \frac{n+2}{n^3 - 3n + 4}; b_n = \frac{1}{n^p}$$

$$p = 3 - 1 = 2 \Rightarrow b_n = \frac{1}{n^2}$$

$$\lim_{n \rightarrow \infty} \frac{a_n}{b_n} = \lim_{n \rightarrow \infty} \frac{(n+2) \cdot n^2}{n^3 - 3n + 4} = \lim_{n \rightarrow \infty} \frac{1 + \frac{2}{n}}{1 - \frac{3}{n^2} + \frac{4}{n^3}} = 1 \neq 0$$

$p=2$, значит ряд $\sum_{n=1}^{\infty} b_n$ сходится, тогда по II признаку сравнения ряд из модулей сходится, и исходный ряд сходится абсолютно

Ответ: ряд сходится абсолютно

$$2) \sum_{n=1}^{\infty} \frac{(-1)^{n+1} 2^n}{3n^3 + n^2 - 3}$$

Составим ряд из модулей $\sum_{n=1}^{\infty} \frac{2^n}{3n^3 + n^2 - 3}$

Т.к. общий член ряда содержит показательную функцию, то воспользуемся признаком Даламбера

$$a_n = \frac{2^n}{3n^3 + n^2 - 3}; a_{n+1} = \frac{2^{n+1}}{3(n+1)^3 + (n+1)^2 - 3}$$

$$\lim_{n \rightarrow \infty} \frac{a_{n+1}}{a_n} = \lim_{n \rightarrow \infty} \frac{2^{n+1}(3n^3 + n^2 - 3)}{2^n(3(n+1)^3 + (n+1)^2 - 3)} = 2 \lim_{n \rightarrow \infty} \frac{3 + \frac{1}{n} - \frac{3}{n^3}}{3(1 + \frac{1}{n})^3 + (1 + \frac{1}{n})^2 \cdot \frac{1}{n} - \frac{3}{n^3}} = 2 > 1$$

Т.к. предел больше 1, то по признаку Даламбера ряд расходится

Исследуем сходимость ряда $\sum_{n=1}^{\infty} \frac{(-1)^{n+1} 2^n}{3n^3 + n^2 - 3}$ по признаку Лейбница

$$1) a_1 = \frac{2}{1} = 2$$

$$a_2 = \frac{2^2}{3 \cdot 8 + 4 - 3} = \frac{4}{25}$$

$$a_3 = \frac{2^3}{3 \cdot 27 + 9 - 3} = \frac{8}{87}$$

$$2 > \frac{4}{25} > \frac{8}{87} > \dots$$

Первое условие признака Лейбница выполнено

$$2) \lim_{n \rightarrow \infty} a_n = \lim_{n \rightarrow \infty} \frac{2^n}{3n^3 + n^2 - 3} = \infty \quad - \text{смотри пункт 3 Замечания}$$

Второе условие признака Лейбница не выполнено

По признаку Лейбница ряд расходится

Решение можно упростить, если сначала проанализировать общий член заданного ряда. Из пункта 3 Замечания видно, что предел общего члена заданного ряда равен бесконечности, поэтому удобнее сразу воспользоваться признаком Лейбница.

Ответ: ряд расходится

$$3) \sum_{n=1}^{\infty} (-1)^{n+1} \left(\frac{n^2 + 2}{2n^2 - n + 3} \right)^n$$

$$\text{Составим ряд из модулей } \sum_{n=1}^{\infty} \left(\frac{n^2 + 2}{2n^2 - n + 3} \right)^n$$

Т.к. общий член ряда содержит степень, зависящую от n , то воспользуемся признаком Коши

$$\lim_{n \rightarrow \infty} \sqrt[n]{a_n} = \lim_{n \rightarrow \infty} \sqrt[n]{\left(\frac{n^2 + 2}{2n^2 - n + 3} \right)^n} = \lim_{n \rightarrow \infty} \frac{n^2 + 2}{2n^2 - n + 3} = \lim_{n \rightarrow \infty} \frac{1 + \frac{2}{n^2}}{2 - \frac{1}{n} + \frac{3}{n^2}} = \frac{1}{2} < 1$$

Т.к. предел меньше 1, то по признаку Коши ряд сходится, значит, исходный ряд сходится абсолютно

Ответ: ряд сходится абсолютно

$$4) \sum_{n=1}^{\infty} \frac{(-1)^{n+1}}{n}$$

Составим ряд из модулей $\sum_{n=1}^{\infty} \frac{1}{n}$. Это гармонический ряд, который расходится, таким образом, ряд из модулей расходится.

Исследуем сходимость ряда $\sum_{n=1}^{\infty} \frac{(-1)^{n+1}}{n}$ по признаку Лейбница

$$1) a_1 = 1$$

$$a_2 = \frac{1}{2}$$

$$a_3 = \frac{1}{3}$$

$$1 > \frac{1}{2} > \frac{1}{3} > \dots$$

Первое условие признака Лейбница выполнено

$$2) \lim_{n \rightarrow \infty} a_n = \lim_{n \rightarrow \infty} \frac{1}{n} = 0$$

Второе условие признака Лейбница выполнено

По признаку Лейбница ряд сходится

Исходный ряд сходится условно

Ответ: ряд сходится условно

Выполнить самостоятельно:

Исследовать ряды на сходимость

$$1) \sum_{n=1}^{\infty} (-1)^{n+1} \frac{3n^2 + 2n - 1}{n^5 - 2n^4 + 2n^3 + 4n - 3}$$

$$2) \sum_{n=1}^{\infty} (-1)^{n+1} \left(1 + \frac{1}{5^n}\right)$$

$$3) \sum_{n=1}^{\infty} (-1)^{n+1} \frac{2^n}{n!}$$

$$4) \sum_{n=1}^{\infty} \frac{(-1)^{n+1}}{(n+2) \cdot 3^{2n}}$$

$$5) \sum_{n=1}^{\infty} \frac{(-1)^{n+1} (2n+1)}{3n-1}$$

$$6) \sum_{n=1}^{\infty} (-1)^{n+1} \frac{n}{n^3 + 2n^2 - n + 3}$$

$$7) \sum_{n=1}^{\infty} \frac{(-1)^{n+1} 3^n}{n^n}$$

$$8) \sum_{n=1}^{\infty} (-1)^{n+1} \frac{3^n}{2^n}$$

Критерии оценок:

«3» - за верно выполненные 4 задания

«4» - за верно выполненных 6 заданий

«5» - за верно выполненных 8 заданий

Практическое занятие № 10.

Вычисление интегралов по формулам прямоугольников, трапеций и формуле Симпсона

Цель: Научиться применять формулы прямоугольников, трапеций и парабол при вычислении площади криволинейной трапеции

Метод прямоугольников

Одним из простейших методов численного интегрирования является **метод прямоуголь-**

ников. На частичном отрезке $[x_{j-1}, x_j]$ подынтегральную функцию заменяют полиномом

Лагранжа $x_{j-0.5} = x_j - 0.5h$. Тогда значение интеграла на

нулевого $\int_{x_{j-1}}^{x_j} f(x) \cdot dx \approx f(x_{j-0.5}) \cdot h$

порядка, построенным в одной точке. В качестве этой

Подставив это выражение получим состав-

$$\int_a^b f(x) \cdot dx \approx \sum_{j=1}^N f(x_{j-0.5}) \cdot h$$

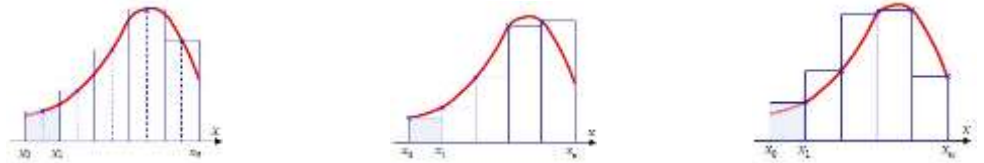
точки можно выбрать середину частичного отрезка

частичном отрезке:

ную формулу **средних прямоугольников**: Графическая иллюстрация метода средних прямоугольников представлена на рис.(а). Из рисунка видно, что площадь криволинейной трапеции приближенно заменяется площадью многоугольника, составленного из N прямоугольников. Таким образом, вычисление определенного интеграла сводится к нахождению суммы N элементарных прямоугольников. Формулу (2.7) можно представить в ином виде:

$$\int_a^b f(x) \cdot dx \approx \sum_{j=1}^N h \cdot f(x_{j-1}) \quad \text{или} \quad \int_a^b f(x) \cdot dx \approx \sum_{j=1}^N h \cdot f(x_j)$$

Эти формулы называются формулой **левых и правых прямоугольников** соответственно. Графически метод левых и правых прямоугольников представлен на рис (б, в). Однако из-за нарушения симметрии в формулах правых и левых прямоугольников, их погрешность значительно больше, чем в методе средних прямоугольников.



а) средние прямоугольники б) левые прямоугольники в) правые прямоугольники

Рис. Интегрирование методом прямоугольников

Метод трапеций

Если на частичном отрезке $[x_{j-1}, x_j]$ подынтегральную функцию заменить полиномом Лагранжа первой степени:

$$f(x) \approx \int_{x_{j-1}}^{x_j} f(x) dx \approx \frac{1}{h} \left[\int_{x_{j-1}}^{x_j} \left[\frac{(x - x_j)}{(x_{j-1} - x_j)} f(x_{j-1}) + \frac{(x - x_{j-1})}{(x_j - x_{j-1})} f(x_j) \right] dx \right] = \frac{f(x_{j-1}) + f(x_j)}{2} h$$

Тогда составная формула трапеций на всем отрезке интегрирования $[a, b]$ примет вид:

$$\int_a^b f(x) dx \approx \sum_{j=1}^N \frac{f(x_j) + f(x_{j-1})}{2} h = h \left[\frac{1}{2} (f_1 + f_N) + f_2 + \dots + f_{N-1} \right]$$

на частичном отрезке запишется следующим образом:

Графически метод трапеций представлен на рис. Площадь криволинейной трапеции заменяется площадью многоугольника, составленного из N трапеций, при этом кривая заменяется вписанной в нее ломаной. На каждом из частичных отрезков функция

аппроксимируется прямой, проходящей через конечные значения, при этом площадь трапеции на каждом отрезке определяется по формуле

Погрешность метода трапеций выше, чем у метода средних прямоугольников. Однако на практике найти среднее значение на элементарном интервале можно только у функций, заданных аналитически (а не таблично), поэтому использовать метод средних прямоугольников удается далеко не всегда.

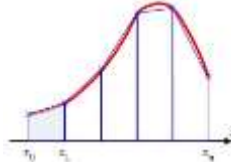


Рис. Интегрирование методом трапеций

Метод Симпсона

В этом методе подынтегральная функция на частичном отрезке $[x_{j-1}, x_j]$ аппроксимируется параболой, проходящей через три точки $x_{j-1}, x_{j-0.5}, x_j$, то есть интерполяционным многочленом Лагранжа второй степени:

$$f(x) = L_{2,j}(x) = \frac{2}{h^2} [(x - x_{j-0.5})(x - x_j)f(x_{j-1}) - 2 \cdot (x - x_{j-1})(x - x_j)f(x_{j-0.5}) + (x - x_{j-1})(x - x_{j-0.5})f(x_j)]$$

$$\int_{x_{j-1}}^{x_j} f(x) dx \approx \frac{h}{6} (f_{j-1} + 4f_{j-0.5} + f_j)$$

ние, получим:

Проведя интегрирова-

Это и есть формула Симпсона или формула парабол. На отрезке $[a, b]$ формула Симпсона примет вид:

$$\int_a^b f(x) dx \approx \frac{h}{6} [f_0 + f_N + 2(f_1 + f_2 + \dots + f_{N-1}) + 4(f_{0.5} + f_{1.5} + f_{2.5} + \dots + f_{N-0.5})] =$$

$$= \frac{h}{6} \left[f_0 + f_N + 2 \cdot \sum_{j=1}^{N-1} f_j + 4 \cdot \sum_{j=0.5}^{N-0.5} f_j \right]$$

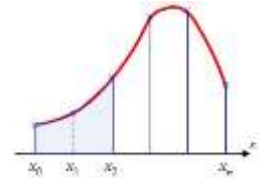
Если разбить отрезок интегрирования $[a, b]$ на **четное** количество $2N$ равных частей с ша-

гом , $h = \frac{b-a}{2N}$ то можно построить параболу на каждом сдвоенном $[x_{j-1}, x_j]$ частичном отрезке и переписать выражения без дробных индексов. Тогда формула Симпсона примет вид:

$$\int_a^b f(x) dx \approx \frac{h}{3} [f_0 + f_{2N} + 2(f_2 + f_4 + \dots + f_{2N-2}) + 4(f_1 + f_3 + f_5 + \dots + f_{2N-1})]$$

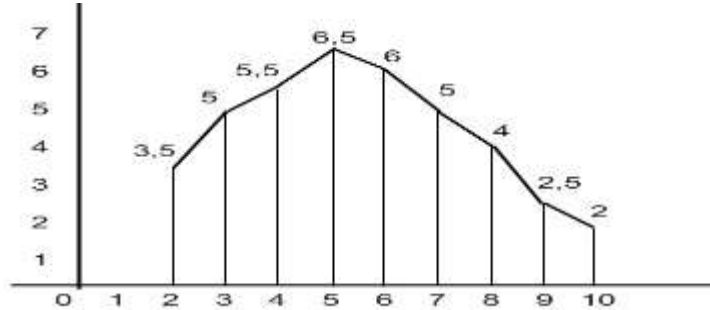
$$= \frac{h}{3} \left[f_0 + f_{2N} + 2 \cdot \sum_{j=2,2}^{2N-2} f_j + 4 \cdot \sum_{j=1,2}^{2N-1} f_j \right]$$

Графическое представление метода Симпсона показано на рис. На каждом из сдвоенных частичных отрезков заменяем дугу данной кривой параболой. *Рис. Метод Симпсона*



Задание:**1 вариант**

1. Найдите приближённое значение площади по рисунку:



7

2. Вычислите приближённое значение интеграла $\int_1^2 x^5 dx$, разбив его на 6

1

частей.

2.2

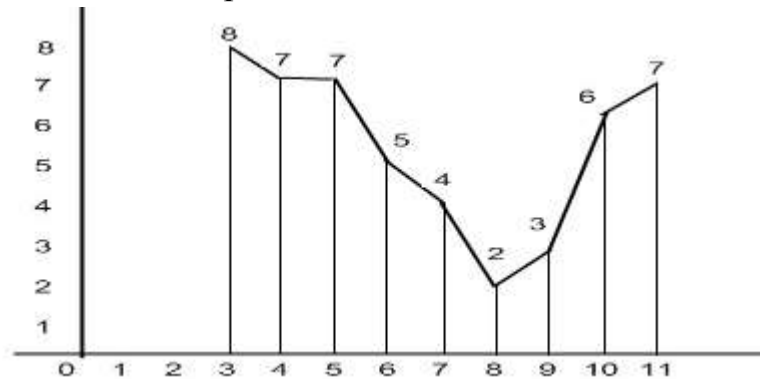
3. Вычислите приближённое значение интеграла $\int_1^2 \frac{dx}{x^2}$, разбив его на 6

1

частей.

2 вариант

1. Найдите приближённое значение площади по рисунку:



9

2. Вычислите приближённое значение интеграла $\int_1^2 x^2 dx$, разбив его на 8

частей.

3. Вычислите приближённое значение интеграла $\int_1^5 \sqrt{x} \, dx$, разбив его на 4

части.

Практическая работа № 11

Решение простейших задач по теории вероятности.

1. Основные сведения.

Вероятность события A равна отношению числа m – благоприятных исходов события A к общему числу n несовместных исходов.

$$P(A) = \frac{m}{n}$$

Суммой двух несовместных исходов называется событие, состоящее в наступлении хотя бы одного из них.

Теорема суммы вероятностей:

$$P(A+B) = P(A) + P(B)$$

Произведение нескольких событий – это такое событие, когда каждое из них обязательно произойдет

Теорема произведения вероятностей:

$$P(A*B) = P(A) * P(B)$$

Формула Бернулли.

$$P(A)_{n,k} = C_n^k \cdot p^k \cdot q^{n-k}, \text{ где}$$

n – число независимых испытаний

p – вероятность появления благоприятного

исхода k – число благоприятных исходов

$q = 1 - p$ – вероятность появления

противоположного исхода.

2. Примеры.

Решить задачи:

1. В ящике 100 деталей, из них 3 – бракованные. Найти вероятность того, что наугад взятая деталь хорошая.

Решение.

Событие A – из ящика взята хорошая деталь. Число всех исходов $n = 100$, число благоприятных исходов $m = 100 - 3 = 97$.

$$P(A) = \frac{m}{n} = \frac{97}{100} = 0,97$$

2. В ящике находится $a = 6$ красных шаров и $b = 7$ белых шаров. Наугад берется партия из $k = 5$ шаров. Найти вероятность того, что в этой партии $l = 2$ красных шара.

Решение.

1). Событие A : в партии из k шаров l красных.

Все исходы $n = C_{a+b}^k$

Партия шаров состоит из двух частей. Выбираем красные шары: существует множество сочетаний из a по l . $m_1 = C_a^l$.

Число всех благоприятных исходов определяем по основному правилу комбинаторики.
 $m = m_1 \cdot m_2$.

Вероятность события A находим по определению: $P(A) = \frac{m_1 \cdot m_2}{n} = \frac{m}{n}$

2). $a = 6$ $b = 7$ $k = 5$ $l = 2$

Найдем число всех исходов $n = C_{6+7}^5 = C_{13}^5 = 1287$

Найдем число благоприятных исходов:

Выбираем красные шары: $m_1 = C_6^2 = 15$

Выбираем белые шары: $m_2 = C_7^{5-2} = C_7^3 = 35$

Всего число благоприятных исходов: $m = m_1 \cdot m_2 = 15 \cdot 35 = 525$

Определяем вероятность события A : $P(A) = \frac{m}{n} = \frac{525}{1287} = 0,04$

Ответ: $P(A) = 0,04$

3. Вероятность попадания в цель при одном выстреле составляет 0,8. Найти вероятность четырех попаданий при шести выстрелах.

Решение.

Задача на повторение испытаний. Здесь $n = 6$, $k = 4$, $p = 0,8$, $q = 1 - 0,8 = 0,2$.

По формуле Бернулли находим $P(A)_{6,4} = C_6^4 \cdot 0,8^4 \cdot 0,2^{6-4} = 0,246$.

3. Самостоятельная работа.

Решить задачи:

- 1) Вашей группе дали 16 билетов в театр, Какова вероятность посещения театра одним студентом?
- 2) В ящике 100 деталей из них 3 бракованных. Найти вероятность того, что наугад взятая деталь хорошая.
- 3) Из полного набора игры в домино выбирается наугад одна пластинка. К.в.т.ч. на этой пластинке будет 4 очка?
- 4) 2. На карточках написаны числа от 1 до 15 включительно. Наугад отбираются две карточки. Какова вероятность того, что сумма чисел на них равна 10.
- 5) К.в.т.ч. при 3 бросках мяча по кольцу будет 2 попадания.

Задачи на выборку.

- 6) Студент идет на зачет, зная 20 вопросов из 25. Чтобы ответить на 2 вопроса из любых трех заданных преподавателем. Какова минимальная вероятность сдать зачет?
- 7) В группе 12 мальчиков и 18 девочек выбирают делегацию на слет из 5 человек. К.в.т.ч. а) выбраны 2 мальчика; б) выбраны только девочки; в) выбраны 2 девочки.

Задачи на сложение и умножение вероятностей.

- 8) В цехе имеется два электромотора. Вероятность работы первого в данный момент 0,8; а второго-0,3. К.в.т.ч. хотя бы один станок работал в данный момент.
- 9).Аня выполнила домашнее задание с вероятностью 0,9; Оля-0,6; Ира-0,2. Какова вероятность того, что две из девочек ответят домашнее задание?
- 10) В одной вазе стоят 4 белых и 8 красных роз, а в другой – 3 белых и 9 красных. Из каждой вазы вынули по розе. Найти вероятность того, что обе розы окажутся белыми.

Формула Бернулли.

- 11) Совершается 12 бросков по кольцу мячом с вероятностью попадания 0,95 при каждом броске. К.в.т.ч. будет 8 попаданий.
- 12) Монета подбрасывается 16 раз. К.в.т.ч. 11 раз выпадет решка?
- 13) Всхожесть семян 94% . К.в.т.ч. из 6 посаженных семян взойдут 4?
- 14) В физиокабинете находятся 3 кабины для процедур. Найти вероятность того, что при 10-кратном посещении процедур больной 4 раза окажется в кабине №2?
- 15) При обработке деталей на станке в среднем 4% из них оказываются с дефектами. К.в.т.ч. каждые 2 детали из 30 взятых на проверку окажутся с дефектами?
- 16) Рабочий обслуживает два автомата. Вероятность того, что I автомат не работает равна 0,2 , а вероятность работы для II автомата- 0,7. К,в.т.ч. ни один из автоматов не потребует внимания рабочего?

- 17) На отдельных карточках написаны буквы “и”, “л”, “о”, “с”, “ч”. После перемешивания берут по одной карточке и кладут последовательно рядом. Вычислите вероятность того, что из этих букв составит слово “число”.
- 18) В коробке имеется 30 лотерейных билетов, из которых 26 пустых (без выигрышей). Наугад вынимают одновременно 4 билета. К.в.т.ч. из 4 билетов 2 будут выигрышными?

Практическая работа № 12.

Математические характеристики случайной величины.

1. Случайная величина задана законом распределения:

1	4	6
0,1	0,6	0,3

Найти её математическое ожидание.

2. Случайная величина задана законом распределения:

1	5	8
0,1	0,2	0,7

Найти дисперсию и среднее квадратичное отклонение этой случайной величины X . Найти математическое ожидание этих случайных величин и определить по таблицам, какая из данных величин более рассеяна. Подсчитать дисперсии $D(X)$ и $D(Y)$. Убедиться, что $D(X) > D(Y)$.

X	2	20	28	50
	$\frac{1}{4}$	$\frac{1}{4}$	$\frac{1}{4}$	$\frac{1}{4}$

Y	23	25	26
	$\frac{1}{4}$	$\frac{1}{4}$	$\frac{1}{2}$

3. В лотерее 100 билетов. Разыгрывается приз в 200 рублей и 20 призов по 50 рублей. Пусть X – величина возможного выигрыша для человека, имеющего 1 билет. Составить закон распределения этой случайной величины X .
4. Согласно статистике, вероятность того, что двадцатипятилетний человек проживет еще год, равна 0,992. Компания предлагает застраховать жизнь на год на 1000 у. е. с уплатой

10 у. е. взноса. Определить, какую прибыль ожидает компания от страховки одного двадцатипятилетнего человека.

Практическая работа №13.

Решение сферических треугольников.

Контрольные вопросы:

1. Что такое "прямоугольный сферический треугольник"? Каковы его элементы?
2. Сформулируйте теорему Пифагора для прямоугольных сферических треугольников.
3. Сформулируйте правило Непера.
4. Пользуясь правилом Непера, написать формулы, связывающие следующие элементы прямоугольного треугольника: a, B, C ; a, B, c ; a, b, c ; b, B, c ; a, c, C ; B, c, C .
5. Какие два элемента прямоугольного сферического треугольника называют однородными?
6. Как связать гипотенузу с прилегающими углами?
7. Как связать катет с двумя углами B и C ?
8. Записать условия существования прямоугольного сферического треугольника?
9. Сколько возможно случаев решения прямоугольного сферического треугольника?
10. Составьте схемы вычислений для каждого случая решения прямоугольных сферических треугольников.
11. Возможен ли прямоугольный сферический треугольник, если его углы равны: $B=1350$, $C=1400$?
12. Возможен ли прямоугольный сферический треугольник, если его углы равны: $B=350$, $C=480$?
13. Как осуществлять контроль правильности решения задач по определению неизвестных элементов прямоугольного сферического треугольника?

ЗАДАНИЯ ДЛЯ ПРОМЕЖУТОЧНОЙ АТТЕСТАЦИИ.

Промежуточная аттестация по учебной дисциплине «Математика» проводится в форме экзамена.

Экзамен проводится в форме теста. Количество экзаменационных билетов – 32. Билеты представлены в 4 вариантах. В каждом варианте 18 заданий. Время выполнения работы – 40 мин

Критерии оценивания:

«5» 16 – 18 баллов

«4» 13 - 15 баллов

«3» 12 - 7 баллов

III семестр экзамен 2 курсСпециальность: **26.02.03** «Судовождение»Дисциплина: **Математика**

Время выполнения теста: 40 минут

Количество заданий: 18

Демонстрационный вариант.

1. Производная $y = x^2 \cdot e^x$

функции имеет вид...

А) $2x \cdot e^x$

Б) $2x \cdot e^x - x^2 \cdot e^x$

В) $2x \cdot e^x + x^2 \cdot e^x$

Г) $2x + e^x$

2. Производная $y = \sin 8x$

функции имеет вид ...

А) $y' = \cos 8x$

В) $y' = 8 \sin 8x$

Б) $y' = 8 \cos 8x$

Г) $y' = -8 \cos 8x$

3. Вторая производная $y''(x)$ функции $y(x) = x^2 - 3x - 1$ имеет вид

А) $y'' = 3$

Б) $y'' = 2$

В) $y'' = 0$

Г) $y'' = 1$

4. Угловый коэффициент касательной к графику функции $y = x^2 + 3x - 4$ в точке $x_0 = -2$ равен ...

А) -1 ; Б) -6 ; В) 1 ; Г) -7.

5. Множество всех первообразных $y = 2x$ функции имеет вид ...

- А) x^2 ; Б) 2; В) $x^2 + C$; Г) $2x^2 + C$.

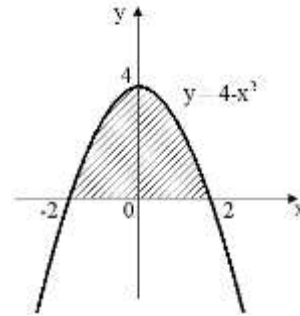
6. Определенный $\int_1^2 4x^3 dx$ интеграл равен ...

- А) 36; Б) 17; В) x^4 ; Г) 15 .

7. Площадь криволинейной трапеции D определяется интегралом ...

А) $\int_{-2}^2 (4-x^2) dx$ Б) $\int_0^2 (4-x^2) dx$

В) $\int_{-2}^0 (4-x^2) dx$ Г) $\int_0^4 (4-x^2) dx$



8. В результате подстановки $t = 3x + 2$ интеграл $\int \frac{dx}{\sqrt{3x+2}}$ приводится к виду ...

А) $3 \int \frac{dt}{\sqrt{t}}$ Б) $\frac{1}{3} \int \frac{dt}{\sqrt{t}}$

В) $\int \frac{dt}{\sqrt{t}}$ Г) $\int \frac{dx}{\sqrt{t}}$

9. По цели произведено 10 выстрелов, зарегистрировано 7 попаданий, тогда относительная частота попадания в цель равна ...

- А) 0,7; Б) 0,5; В) 0,35; Г) 0,3 .

10. Предел $\lim_{x \rightarrow \infty} \frac{1-2x^2+3x}{4-3x+x^2}$ равен...

- А) -2; Б) ∞ В) 0; Г) $\frac{1}{4}$

11. Значение предела $\lim_{x \rightarrow -2} \frac{(2+x)(3+x)}{4-x^2}$ равно ...

А) $-\frac{1}{4}$; Б) ∞ ; В) 0; Г) $\frac{1}{4}$.

12. Корнями уравнения $x^2-2x+5=0$ являются числа ...

А) таких чисел нет; Б) 3 и -1; В) $1 \pm 2i$ Г) $1 \pm 4i$

13. Дифференциальное уравнение $\cos y dx - x^2 dy = 0$ в результате разделения переменных сводится к уравнению ...

А)

$$\frac{dx}{x} = \frac{dy}{\cos^2 y}$$

Б)

$$\frac{\cos y dx}{x^2} = dy$$

В)

$$\cos y dx = x^2 dy$$

Г)

$$\frac{dx}{x^2} = \frac{dy}{\cos y}$$

14. Решением дифференциального уравнения $y' - x = 0$ является функция ...

А)

$$y = -\frac{x^2}{2}$$

Б)

$$y = 1$$

В)

$$y = x$$

Г)

$$y = \frac{x^2}{2}$$

15. Закон величины

X	2	5	8
P	0,1	P_2	0,6

распределения вероятностей дискретной случайной X имеет вид:

Тогда вероятность P_2 равна ...

А) 0,3; Б) 0,7; В) 0; Г) 0,5.

16. Математическое ожидание дискретной случайной величины, заданной законом распределения,

X	2	5	8
P	0,2	0,3	0,5

равно ...

А) 5,9; Б) 5; В) 15; Г) 1.

17. Вычислите сумму чисел $z_1=7+2i$ и $z_2=3+7i$

А) $10+9i$; Б) $4-5i$; В) $10-5i$; Г) $4+5i$.

18. Значение $\lim_{x \rightarrow 0} \frac{\sin 3x}{x}$ предела равно ...

А) 3; Б) $\frac{1}{3}$; В) 0; Г) 1.